

H
112794

LES
PROPRIÉTÉS REMARQUABLES
DE LA
ROUTE DE LA LUMIÈRE,
PAR LES AIRS
ET EN GÉNÉRAL
PAR
PLUSIEURS MILIEUX REFRINGENS SPHÉ-
RIQUES ET CONCENTRIQUES,
AVEC LA SOLUTION
DES
PROBLÈMES,
QUI Y ONT DU RAPPORT, COMME SONT LES
REFRACTIONS ASTRONOMIQUES ET
TERRESTRES, ET CE QUI
EN DÉPEND.

PAR
J. H. LAMBERT.



A LA HATE
Chez H. SCHEURLEER, F. Z. & Compagnie,
M. DCC. LVIII.

Hfvc
13947

REMARQUES

S U R

L'OPTIQUE

SERVANT

D'AVANT-PROPOS.

L'Optique, prise dans toute son étendue, comprend deux parties assez différentes l'une de l'autre. La première considère les routes de la lumière & les phénomènes qui en dépendent. Elle embrasse l'Optique en particulier, la Catoptrique, la Dioptrique, & la Perspective. Ces Sciences ont été portées à un si haut point de perfection, qu'on n'y trouve presque plus qu'à glaner. Les effets de la vue étoient trop intéressants, pour qu'on ne s'appliquât à les examiner dès la naissance des Sciences. Fondées, comme elles sont, sur peu de principes également simples & universels, on ne pouvoit qu'y faire des progrès. La Géométrie & l'Analyse fournirent abondamment les moyens nécessaires pour résoudre les questions, dès qu'on étoit parvenu à se les proposer.

Le seul cas, qui sembloit encore moins examiné, c'est celui, où la lumière passe successivement par plusieurs milieux sphériques & concentriques. J'ai essayé dans ce traité de suppléer à ce défaut. On y verra, que ce Cas n'est ni si compliqué, ni si difficile, qu'il

paroit du premier abord, & qu'il y a moyen d'aller plus loin qu'on n'a été. On fait qu'il existe dans l'Atmosphère, & que les refractions des Astres & des objets terrestres en dépendent. Ce seul point suffit, pour le rendre intéressant & digne de la peine, que les plus grands Géometres se sont donnée, pour le déterminer dans cette vue. J'ai abandonné le chemin, qu'ils avoient battu, parceque je n'ai pas vu, qu'il les ait menés au but. Il me sembloit qu'on ne pouvoit y parvenir, que par des détours. Je reculai donc, & m'arrêtai pour le découvrir.

On ne me reprochera pas, que j'aie fait entièrement abstraction de la densité de l'air. Tout ce que j'y aurois gagné, ce seroit d'avoir eu une équation différentielle pour une autre, sans en avoir été plus avancé. Par contre en l'omettant, mon traité est purement optique & mathématique, c'est à dire, démonstratif. En admettant les densités, il auroit tenu à des hypothèses Physiques: la différence est sensible.

Voici tout ce que j'avois à dire préalablement sur ce petit ouvrage. En y joignant sa lecture, on se trouvera en état d'y ajouter le reste.

L'autre partie de l'Optique, dont j'ai principalement dessein de parler, c'est la *Photométrie*. Elle s'occupe de l'éclat de la lumière, de sa densité, de sa force illuminante, de ses modifications dans les couleurs & dans l'ombre, de ses degrés, des accroissemens & diminutions qu'elle souffre dans tous les cas. Si la
pre-

premiere partie de l'optique a été d'un secours infini, pour corriger les défauts de la vuë, pour rectifier les jugemens des yeux, pour démêler les apparences d'avec la vérité, pour nous faire connoître des mondes, que la nature sembloit avoir voulu nous cacher, en les éloignant au-delà de la portée de notre vuë, ou en les rendant imperceptibles par leur petitesse, il faut dire, que notre connoissance de la lumiere elle-même n'en a pas été fort perfectionnée. La Photométrie y contribue infiniment plus. Qui veut imaginer une théorie de la lumiere, il ne lui suffira pas, de savoir qu'elle se reflechit & se brise suivant une certaine loi: mais il lui importera, d'en pouvoir déduire la quantité de l'une & de l'autre conformement aux expériences.

La Photométrie n'est pas un país entièrement inculte. Des savans fort célèbres y ont travaillé. Mr. Bouguer en a donné un très bel Essai sur la Gradation de la lumiere. Il la fait passer par plusieurs vitres, par l'eau, par l'athmosphere. Il en cherche l'affoiblissement. Il s'en fert pour la célèbre expérience sur la comparaison de la Clarté du Soleil & de la Pleine-Lune. Mr. Euler a encore donné nouvellement une Dissertation sur les différens degrés de la lumiere des Astres; & on trouve, dans plusieurs Optiques, des recherches, qui ont du rapport à la Photométrie, & en particulier dans celle de Mrs. Smith & Kaestner.

Tous ces Essais sont des parties détachées d'un tout, dont il paroît qu'on est encore fort éloigné. Aussi n'en doit-on pas être sur-

pris. Rien de plus difficile, que la mesure de la lumière, lorsqu'on veut la poursuivre dans toutes ses modifications & dans tous les phénomènes qu'elle nous offre. Si les principes pour trouver les routes de la lumière étoient aisés & simples, si les bords de l'ombre, ou des rayons atténués, qui entroient dans une chambre obscure, les marquoient visiblement, il s'en faut de beaucoup, que ceux, dont on a besoin pour la Photométrie le soient aussi. Il arrive rarement ou jamais, qu'on les voie seuls, & il faut nombre d'expériences, pour les dégager des circonstances accidentelles, dans lesquelles ils sont toujours envelopés.

Cette science nous manquant donc presque entièrement, & étant d'ailleurs fort curieuse, je me propose d'en donner un essai au public, lequel, sans être complet, ne laissera pas d'être assez détaillé.

On y trouvera la suite d'expériences, qu'il m'avoit fallu faire pour déterminer la quantité de la lumière réfléchie & brisée sur la surface extérieure & intérieure du verre, sous chaque obliquité d'incidence. J'ai tâché, d'un autre côté, d'y appliquer un Calcul, que les expériences ne démentissent point. On sait que c'est justement ce qui restoit de plus inexplicable dans la théorie de la lumière, & on pouvoit croire avec quelque droit qu'une théorie, qui expliqueroit ce phénomène, & qui fourniroit les principes pour les calculs, ne pouvoit qu'être extrêmement approchante de la véritable. J'applique ces mêmes Ex-
pé-

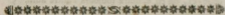
périences à plusieurs verres, & par-là j'obtiens, pour chaque angle d'incidence, ce que Mr. Bouguer avoit cherché pour les angles droits. Je traite de la diminution de la lumière, qui passe par l'atmosphère, sans avoir besoin de quelque hypothèse Physique. On y trouvera la théorie de l'intensité de la lumière directe, & la clarté des objets illuminés, comparée à celle de la lumière qui les illumine, la clarté des images dans les foyers d'un verre caustique comparée à celle des objets mêmes, par théorie & par expérience, en faisant entrer dans le calcul la quantité de lumière que les surfaces du verre réfléchissent. L'illumination du système planétaire, & la clarté des planètes & de leurs phases vues de la terre, leur force illuminante, &c. Cette théorie n'est point du tout une copie de celle de Mr. Euler. Elle part de principes différens & plus détaillés, & répond parfaitement à l'expérience de Mr. Bouguer pour la Clarté de la Lune comparée à celle du Soleil, que le calcul de Mr. Euler donna plus petite contre son attente, & que Mr. Smith trouva plus grande par le sien. Les différens degrés de l'ombre, & leur mesure. Des instrumens pour déterminer le degré de la Clarté des couleurs & de leur mélange. La Clarté des objets en tant qu'elle dépend de la variation de l'ouverture de la pupille, &c.

Voici quelques sujets, que je traite dans ma Photométrie, simplement indiqués. Pour donner quelque idée du tout, je dirai que,

quant aux matieres, que l'on trouve déjà dans d'autres livres, ce que j'en dirai, en differera comme le present traité differe de ce que d'autres Auteurs ont trouvé sur les refractions astronomiques; & que pour celles, qui sont toutes nouvelles, ne trouvant à les comparer qu'aux expériences, il suffira de dire qu'elles auront leur suffrage.



L E S
PROPRIETES REMARQUABLES
DE LA ROUTE
DE LA LUMIERE.



SECTION I.

Les Propriétés générales de la route, que la lumière prend, en passant par des milieux réfringens, sphériques & concentriques.

EXPERIENCE I.

§. 1. **L**orsque la lumière passe d'un milieu dans un autre plus ou moins dense, elle se brise sur la surface, & le rapport des sinus de l'angle d'inclinaison & de l'angle brisé pour les mêmes milieux, est constant, quelque soit l'angle d'inclinaison.

EXPERIENCE II.

§. 2. Si la lumière passe successivement par plusieurs milieux, dont les surfaces soient planes & parallèles, le rapport entre les sinus de l'angle d'inclinaison sur le premier milieu & de l'angle brisé à la dernière surface est le même, qui auroit lieu, si elle passoit immédiatement du premier milieu au dernier.

REMARQUE.

§. 3. Ces deux Expériences sont trop connues pour m'y arrêter plus long-tems. Je ne les allégué ici, que parcequ'elles serviront seules de base à ce qui sera démontré dans la suite.

La première en particulier est le fondement de toute la Dioptrique, & on n'a pas manqué d'en chercher plusieurs démonstrations. Je me suis borné à ne les exposer ici, que comme de simples expériences. La seconde paroît dépendre de la première, & quelque démonstration qu'on donne de celle-ci, on en déduira toujours l'autre aussi.

THÉORÈME I.

Fig. 1. §. 4. Si la lumière passe successivement par plusieurs milieux réfringens, le rapport entre le sinus du premier angle d'inclinaison & celui du dernier angle brisé est la somme des rapports des angles intermédiaires.

DEMONSTRATION.

Soient BH, LJ, MK, NE les surfaces des milieux réfringens planes & parallèles, ABCDEF un rayon de lumière brisé successivement en B, C, D, E. Or pour ces quatre réfractions on aura les quatre rapports suivans

$$\begin{aligned} \sin. \text{GBA} &: \sin. \text{CBL} \\ \sin. \text{HCB} &: \sin. \text{DCM} \\ \sin. \text{JDC} &: \sin. \text{EDN} \\ \sin. \text{KED} &: \sin. \text{FEP} \end{aligned}$$

Dont la somme sera

$$\begin{aligned} &(\sin. \text{GBA.} \sin. \text{HCB.} \sin. \text{JDC.} \sin. \text{KED}): \\ &(\sin. \text{CBL.} \sin. \text{DCM.} \sin. \text{EDN.} \sin. \text{FEP}). \end{aligned}$$

Mais à cause du parallélisme des surfaces, on aura

$$\begin{aligned} \text{HCB} &= \text{CBL} \\ \text{JDC} &= \text{DCM} \\ \text{KED} &= \text{EDN} \end{aligned}$$

donc en substituant ces Valeurs, la somme des rapports se change en $(\sin. \text{GBA.} \sin. \text{HCB.} \sin. \text{JDC.} \sin. \text{KED}): (\sin. \text{HCB.} \sin. \text{JDC.} \sin. \text{KED.} \sin. \text{FEP})$ & partant en $\sin. \text{GBA}: \sin. \text{FEP}$.

COROLLAIRE.

§. 5. Par la seconde Expérience (§. 2.) le rapport $\sin. GBA : \sin. FEP$ est le même, qui auroit lieu, si la lumière passoit immédiatement du milieu A dans le milieu F. D'où il suit, que si la lumière passe successivement par différens milieux réfringens, dont les surfaces soient planes & parallèles entre elles, la somme des rapports entre les sinus des angles d'inclinaison & des angles brisés est égale au rapport des sinus des mêmes angles, lorsque la lumière passe immédiatement du premier milieu dans le dernier.

LEMME I.

§. 6. Soient AB, BC, CD, DE, EF, FG Fig. 2.
les côtés d'un polygone quelconque, dont les deux extrêmes AB, GF étant prolongés se rencontrent en Q. Soient tirées d'un point quelconque H les droites HA, HB, HC, HD, HE, HF, HG, HQ; je dis que le rapport du produit des sinus des angles extérieurs HFG, HEF, HDE, HCD, HBC au produit des sinus des angles intérieurs HFE, HED, HDC, HCB, HBA sera le même que le rapport du sinus de l'angle HQG au sinus de l'angle HQA.

DÉMONSTRATION.

Prolongez les côtés jusqu'à ce qu'ils rencontrent les perpendiculaires, que vous y tirerez du point H, & posant le rayon = I, vous aurez

$$\left. \begin{array}{l} \text{fin. HFG} = \frac{HP}{HF} \\ \text{fin. HEF} = \frac{HN}{HE} \\ \text{fin. HDE} = \frac{HM}{HD} \\ \text{fin. HCD} = \frac{HL}{HC} \\ \text{fin. HBD} = \frac{HK}{HB} \end{array} \right\} : \left. \begin{array}{l} \text{fin. HFE} = \frac{HN}{HF} \\ \text{fin. HED} = \frac{HM}{HE} \\ \text{fin. HDC} = \frac{HL}{HD} \\ \text{fin. HCB} = \frac{HK}{HC} \\ \text{fin. HBA} = \frac{HJ}{HB} \end{array} \right\}$$

& partant le rapport du produit des premiers au produit des derniers sera $= HP : HJ$: parceque non seulement les dénominateurs, mais aussi les numérateurs intermédiaires s'entredétruisent. Mais le rapport entre le sin. de $HQG = \frac{HP}{HQ}$ & le sin. de $HQA = \frac{HJ}{HQ}$ sera de même $= HP : HJ$. par conséquent il est égal à celui des produits.

COROLLAIRE I.

§. 7. Le sinus d'un angle quelconque étant aussi le sinus de son complément à deux droits, il s'ensuit, que le Lemme, que l'on vient de démontrer, auroit aussi pu être énoncé de la manière suivante.

Le produit des sinus des angles ABH, BCH, CDH, DEH, EFH, est au produit des angles KBH, LCH, MDH, NEH, PFH, comme le sinus de l'angle HQJ au sinus de l'angle HQP, ou simplement comme la droite HJ à la droite HP.

COROLLAIRE II.

§. 8. Si l'on suppose, que tous les côtés du polygone soient infiniment petits, il se changera en une ligne courbe, dont PG, JA seront des tangentes, & HP, HJ des perpendiculaires à ces tangentes.

REMARQUE.

§. 9. Il seroit superflu de démontrer, que l'angle PQJ est la somme de tous les angles PFE, NED, MDC, LCB, KBA & égal à l'angle JHP.

THÉORÈME II.

§. 10. Si du point H comme d'un Centre on tire des arcs de Cercle par les points A, B, C, D, E, F, G. & qu'on suppose les espaces entre ces arcs remplis de matieres diaphanes & diversement refringentes, & qu'un rayon de lumiere y passant de G en A soit successivement brisé aux points F, E, D, C, B. je dis que le produit des sinus de tous les angles d'inclinaison sera au produit des sinus de tout les angles brisés, comme HP à HJ.

DÉMONSTRATION.

Les angles d'inclinaison sont égaux à leurs opposés PFH, NEH, MDH, LCH, KBH. & les angles brisés sont EFH, DEH, CDH, BCH, ABH. Le reste de la démonstration n'est qu'une application du I. Coroll. du I. Lemme (§. 7.)

COROLLAIRE.

§ 11. Donc la somme des rapports des sinus des angles d'inclinaison aux sinus des angles brisés, est la même que le rapport de HP à HJ , ou du sinus de l'angle HQP au sinus de l'angle HQI .

REMARQUE.

§ 12. On fait assez que, pour additionner des rapports, il faut multiplier les termes, & prendre le rapport de leur produit, & que réciproquement la soustraction des rapports se fait par la division. C'est ce que j'observe ici, afin de faire entrevoir l'identité de l'énoncé du Théorème & de son Corollaire, & pour le comparer au Corollaire du Théorème I. (§. 5)

THÉORÈME III.

§ 13. Le rapport du sinus de l'angle HQP au sinus de l'angle HQI est le même, qui est entre le sinus de l'angle d'inclinaison & celui de l'angle brisé, lorsque la lumière passe immédiatement d'un milieu extrême dans l'autre, c'est à dire, du milieu G dans le milieu A .

DEMONSTRATION.

Le rapport du sinus de l'angle HQP au sinus de l'angle HQI est égal à la somme des rapports des sinus de tous les angles d'inclinaison aux sinus des angles brisés sur les surfaces des milieux (§. 10.) Mais cette somme des rapports est égale au rapport des sinus de l'angle d'inclinaison & de l'angle brisé, lorsque la lumière passe immédiatement du premier milieu dans le dernier (§. 5.) donc le rapport du sinus de l'angle HQP au sinus
de

de l'angle HQJ est le même, que celui entre le sinus d'inclinaison & celui de l'angle brisé, lorsque la lumière passe d'un milieu extrême dans l'autre.

THÉORÈME IV.

§. 14. Si au lieu de tous les milieux $ABCDEF G$ il n'y avoit que les deux extrêmes AB & FG , dont le premier seroit répandu par tout l'espace entre le cercle A & entre celui qu'on tirera du Centre H par le point Q , & que l'autre rempliroit l'espace entre le cercle décrit par le point Q & le cercle G : je dis, que la lumière incidente en G suivant la direction GQ seroit brisée en Q , & qu'en continuant sa route par QA elle parviendroit en A , tout de même que lorsqu'elle passoit par les différens milieux $ABCDEF G$, suivant les directions $GFEDCBA$.

DÉMONSTRATION.

Car comme dans le cas de ce Théorème il n'y a que les milieux extrêmes, qui se touchent au cercle tiré par Q , il est évident que la Lumière passera immédiatement d'un milieu extrême dans l'autre, & que les milieux étant d'une réfrangibilité différente, il se fera une refraction en Q , où les surfaces se touchent. L'angle d'inclinaison sera égal à son opposé PQH , & le sinus de l'angle brisé sera au sinus de l'angle PQH comme le sinus de l'angle JQH au sinus du même angle PQH , (§. 12.) & partant l'angle JQH sera le même que l'angle brisé. Donc la Lumière prendra la route QJ . Mais QJ est le côté AB . prolongé (§. 6.) par conséquent la Lumière passera par le point A , par lequel elle passa aussi dans le cas, où elle parcourut les différens milieux $ABCDEF G$. Donc &c.

THÉORÈME V.

§. 15. La refraction dans l'un & l'autre Cas du Théorème précédent est la même.

DÉMONSTRATION.

La refraction est l'angle, que fait la direction de la lumière incidente prolongée avec la direction de la lumière brisée. Or dans l'un & l'autre cas la direction de la lumière incidente est GQ prolongée en P , & celle de la lumière brisée est QAJ , par conséquent la même, & la refraction sera l'angle PQA .

REMARQUE I.

§. 16. Moïennant ces deux derniers Théorèmes la somme de toutes les refractions, que la lumière souffre aux surfaces F, E, D, C, B , est réduite à une seule refraction en Q , qui est telle, que 1°. le rapport des sinus de l'angle d'inclinaison & de l'angle brisé est le même, que celui qui a lieu, lorsque la lumière passe d'un milieu extrême dans l'autre, qu'on peut supposer se toucher en Q . & 2°. l'angle de refraction est $PQJ = JHP$. Mais la distance HQ n'est pas la même, dès que la lumière tombe dans les milieux sous un autre angle, ce qui rend la détermination des refractions plus difficile.

REMARQUE II.

§. 17. Comme le nombre des milieux, leur distance & leur refrangibilité ne changent rien à ces Théorèmes, il est clair, qu'ils s'appliqueront de même, lorsque la route de la lumière est une ligne courbe, comme dans l'atmosphère de la terre, &

& qu'ils auront lieu, soit qu'on prenne toute la Courbe, ou qu'on n'en prenne qu'une partie quelconque.

THÉORÈME VI.

§. 18. *Tous les sinus des angles, que la route de la lumière ABCDEFG forme avec les droites AH, BH, CH, DH, EH, FH, GH, tirées du Centre H aux points de brisure, sont dans un rapport constant, quelle que soit l'obliquité d'inclinaison.*

DÉMONSTRATION.

Les milieux étant circulaires & concentriques, il est évident, que les droites AH, BH, CH, DH, EH, FH, GH seront leurs rayons, & par conséquent constans. Mais les sinus des angles qui se forment dans une même couche, comme p. ex. des deux angles EDH & DEH sont en raison des côtés opposés EH, DH, par conséquent en raison des rayons des surfaces. Or cette raison est constante, donc aussi le rapport entre les sinus des angles, qui se forment dans une même couche.

Dé plus les sinus de chaque angle extérieur, comme p. ex. EDH est égal au sinus de son complément à deux droits MDH, & par conséquent au sinus de l'angle d'inclinaison. Mais l'angle contigu CDH est son angle brisé. Or par la Loi de refraction (§. 1.) la raison entre le sinus de l'angle d'inclinaison & le sinus de l'angle brisé est constante. Donc le rapport des sinus de deux angles contigus à une même surface comme EDH, CDH est aussi constant.

Par conséquent le rapport des sinus des angles dans une même couche comme DEH, EDH, & celui des angles d'une couche à l'autre comme EDH, CDH est constant, & partant les sinus

de tous les angles, que la route de la lumière forme avec les droites HA, HB, HC, HD, HE, HF, HG, tirées du centre H aux points de brisure font dans un rapport constant.

COROLLAIRE.

§. 19. Donc le sinus de l'angle BAH sera à celui d'un autre angle p. ex. DEH, que la route de la lumière forme à la surface E, comme les sinus des angles analogues, qu'elle formera aux mêmes surfaces A & E sous une autre obliquité d'incidence.

THÉORÈME VII.

§. 20. Les perpendiculaires HJ, HK, HL, HM, HN, HP, menées aux côtés prolongés AB, BC, CD &c. sont dans un rapport constant, quelle que soit l'obliquité d'incidence.

DEMONSTRATION.

En considérant les droites HA, HB, HC, HD, HE, HF, HG, comme des rayons, les perpendiculaires HJ, HK, HL, HM, HN, HP feront les sinus des angles d'inclinaison & des angles brisés, & par conséquent dans un rapport constant (§. 1.)

THÉORÈME VIII.

§. 21. Atant prolongé le côté AB jusqu'en R, où il rencontre la dernière surface réfringente RF, tirez le rayon HR, & faites l'angle SRH égal à l'angle PFH, prolongez SR en T: je dis que, si l'espace entre les cercles A & RF étoit rempli du milieu, qui est entre AB, la lumière incidente suivant la direction TR sur la surface RF, y sera brisée

Soit en sorte qu'en continuant sa route par RA elle parviendra dans le point A, tout de même que dans les deux Cas du Théorème IV. Et que l'angle de refraction SRA joint à l'angle RHF sera égal à l'angle de refraction, PQA dans les deux Cas du Théorème cité.

DEMONSTRATION.

I°. Comme les deux milieux extrêmes se joignent en FR, la refraction, que la Lumiere souffre en R est telle, que le rapport des sinus de l'angle d'inclinaison & de l'angle brisé est comme HP à HJ (§. 12.) or en menant la perpendiculaire HS à la droite SR, on aura $HS = HP$, à cause de $HF = HR$, $PFH = SRH$ & des angles droits $HPF = HSR$. donc le rapport des sinus est aussi comme HS à HJ. Mais prenant HR pour le rayon, HS sera égal au sinus de l'angle d'inclinaison, & HJ à celui de l'angle brisé, donc la lumiere après avoir été brisée en R passera par RA & partant par le point A.

II°. Prolongez la droite FP jusqu'à ce qu'elle rencontre SR en V, vous aurez l'angle VOR égal à son opposé HOF, & l'angle VRH égal à l'angle PFH, & les deux triangles RVO & OHF seront semblables. Mais l'angle VQA est la somme des deux angles VRQ & RVQ, donc il sera aussi la somme des angles VRQ & RHF.

REMARQUE.

§. 22. Ce Théorème fait voir la différence entre la refraction rectiligne dans un milieu également dense, & la refraction, que la lumiere subit lorsqu'elle passe par différens milieux, où elle est brisée à reprise. Il paroît de-là, qu'après avoir trouvé l'angle de refraction pour le premier cas, qui est VRA, il faut encore y ajouter l'angle RHF, pour avoir la refraction dans le second cas, qui

B 2

est

Les cas de la refraction en Q et en R sont différens, parce que les angles d'incidence ne sont pas les mêmes.

est égale à l'angle PQA. D'où il s'en suit encore, que plus la route de la Lumière ABCDEFG dans le second cas est courbe, plus aussi la différence entre la refraction dans les deux cas sera grande.

THÉORÈME IX.

§. 23. Faites la droite HZ égale à la quatrième proportionnelle des lignes HP, HJ & HF, & aiant tiré l'arc de cercle ZW, qui entre coupe la droite AJ en W, menez une droite de H en W, je dis, que l'angle JWH sera égal à l'angle PFH, qui est l'opposé de l'angle d'inclinaison de la Lumière incidente en F.

DEMONSTRATION.

Car par la construction on a la proportion suivante $HP : HJ = HF : HW$, d'où l'on tire $HP : HF = HJ : HW$, or les deux triangles HJW & HPF sont droits, par conséquent ils sont semblables, & partant l'angle JWH est égal à l'angle PFH.

COROLLAIRE I.

§. 24. Le rapport entre les perpendiculaires HJ & HP pour les mêmes couches est constant, quelle que soit l'obliquité d'incidence (§. 19) or le rayon HF étant constant aussi, il est clair que le rayon HW le sera de même. D'où il suit, que quelle que soit l'obliquité d'incidence de la lumière, la droite AW sera toujours également inclinée au Cercle ZW comme la lumière incidente en F est inclinée sur la surface F.

COROLLAIRE II.

§. 25. D'où on tire encore cette conséquence, que l'angle WHA sera la différence des deux angles PFH & WAH , & par conséquent la différence des deux angles d'inclinaison extrêmes. Car il est la différence des angles WAH & JWH , or l'angle JWH est égal à l'angle PFH .

THÉORÈME X.

§. 26. Toutes les choses étant les mêmes que dans le Théorème précédent, l'angle WHF sera égal à l'angle de refraction PQA .

DEMONSTRATION.

L'angle JWH étant égal à l'angle PFH , & l'angle HWA le complément de JWH , il est clair, que la somme des deux angles opposés AWH & QFH du carré $HWQF$ est égale à deux droits. Donc aussi la somme des deux autres angles WQF & WHF sera égale à deux droits, & partant l'angle WHF égal à l'angle PQA , qui est le complément de WQF à deux droits.

COROLLAIRE I.

§. 27. Les angles opposés du carré $HWQF$ étant égaux à deux droits, il s'en suit, qu'il peut toujours être inscrit à un cercle, & par conséquent les quatre points H, W, Q, F seront dans la circonférence d'un cercle. D'où l'on tire, que si de ces quatre points il y en a trois donnés de position, le cercle qui passera par tous les quatre pourra être décrit, & le quatrième, de même que la refraction seront déterminés.

COROLLAIRE II.

§. 28. On trouvera de même, que l'angle WHR est égal à l'angle de la refraction rectiligne SRA . (§. 21.) Car par le Théorème que je viens de citer on a $SRA + RHF = PQA$, Mais l'angle PQA est égal à WHF (§. 26.) donc $SRA = WHF - RHF = WHR$.

REMARQUE.

§. 29. Voici les propriétés les plus simples & les plus remarquables, que j'ai pu découvrir de la route de la lumière, qu'elle prend en passant par plusieurs milieux sphériques & concentriques. Il est évident, qu'elles s'appliqueront également à ces Cas, où la route est courviligne, & qu'elles donneront lieu à d'autres recherches, que nous ferons dans la suite. Elle en a cependant bien d'autres, mais la plupart en sont trop compliquées, quand on suppose, que les milieux ont une distance finie; & qui se simplifient davantage, quand on considère des milieux infiniment proches les uns des autres & différant infiniment peu à l'égard du degré de réfrangibilité. C'est le Cas, que nous allons examiner. Il est clair qu'il existe dans l'atmosphère de la terre, & qu'ainsi en le considérant, nous ne faisons que nous approcher du but principal.

Exposition du Cas.

Fig. 3.

§. 30. Soit C le centre commun des milieux réfringens, dont les surfaces soient circulaires & infiniment proches l'une de l'autre, telles que représentent les cercles tirés par les points M & n . Soit la courbe AMn la route de la lumière, qui passant par les mêmes points n , M , parvienne en A .

A. Tirez les droites AJ, MT, nt, qui touchent la courbe dans ces points, & du centre C menez-y les perpendiculaires CD, CT, Ct. l'angle infiniment petit T M t sera la refraction de la couche M, & la somme de toutes les refractions de la partie AM sera egale à l'angle TGA = DCT. (§. 14.) Soient MR, nR deux perpendiculaires aux tangentes TM, tn, qui concourent en R, la droite MR sera le rayon de courbure répondant au point de la courbe M, & l'angle MR n sera egal à l'angle tMT de la refraction.

THÉORÈME XI.

§. 31. Le rayon de courbure MR est à la petite portion de la courbe Mm, comme la tangente MT à la différence ts des deux perpendiculaires CT, Ct.

DEMONSTRATION.

Cette analogie suit nécessairement de la ressemblance des deux triangles tnT & MRn, les angles en t & n étant droits, & les angles tnT, MRn égaux (§. 30.).

COROLLAIRE.

§. 32. D'où il suit, que le rayon de courbure est en raison composée directe de la tangente MT & de l'élément de la courbe Mn, & en raison réciproque de la différence des deux perpendiculaires CT, Ct.

THÉORÈME XII.

§. 33. La différence ts des deux perpendiculaires CT , Ct est en raison constante du sinus de l'angle TMC . pour les mêmes couches M , n .

DÉMONSTRATION.

Car toutes les perpendiculaires menées du centre C aux tangentes de la courbe sont dans un rapport constant aux sinus de tous les angles, que la courbe forme avec les droites qu'on y tire du centre C , si les distances des points d'atouchement & d'interfection du Centre C restent les mêmes pour chaque obliquité d'incidence (§. 17. 19.) Donc les distances des Couches CM , Cn étant supposées rester les mêmes, les perpendiculaires CT , Ct , & partant aussi leur différence ts seront en raison constante du sinus de l'angle TMC , quelle que soit l'obliquité d'incidence.

THÉORÈME XIII.

§. 34. Les distances des couches M & n du centre C restant les mêmes, l'element de la courbe Mn compris entre ces deux couches est en raison constante réciproque du cosinus de l'angle TMC , ou en raison directe de la sécante du même angle.

DÉMONSTRATION.

Car considérant la distance des couches mn comme le rayon, l'element de la courbe Mn représentera la sécante de l'angle Mnm , qui est censé être égal à l'angle TMC , parcequ'il n'en diffère, qu'infinitement peu. Or la distance mn étant constante, l'element Mn sera simplement comme la

sécant-

secante de l'angle TMC, & par conséquent en raison réciproque de son Cosinus.

THÉORÈME XIV.

§. 35. La tangente MT est en raison directe du cosinus de l'angle TMC.

DÉMONSTRATION.

En considérant la droite CM comme le rayon, la tangente MT, formant le troisième côté du triangle rectangle CMT, sera le Cosinus de l'angle TMC. Or la droite CM est supposée être constante, donc TM sera en raison constante du cosinus de l'angle CMT.

REMARQUE.

§. 36. On voit de ces trois derniers Théorèmes, que les trois quantités, par lesquelles nous avons déterminé le rayon de courbure (§. 30. 31.) sont chacune dans un rapport constant au sinus ou cosinus de l'angle TMC, de sorte qu'en comparant les quatre derniers Théorèmes, on en tirera la proposition suivante.

THÉORÈME XV.

§. 37. Le rayon de Courbure MR est en raison réciproque du sinus de l'angle TMC, ou en raison directe de la secante de son complément.

DÉMONSTRATION.

Par le Théorème XI (§. 31.) on a

$$MR = Mn. MT : ts.$$

Mais Mn est réciproquement comme le cosinus de l'angle TMC (§. 34.) & MT est en la même raison directe (§. 35.) Or ces deux raisons s'entredétruisent, donc le rayon de courbure MR est réciproquement comme la différence des perpendiculaires ts , par conséquent réciproquement comme le sinus de l'angle TMC (§. 33.) ou directement comme la sécante de son complément.

COROLLAIRE.

§. 38. L'angle RMT étant droit, l'angle CMR sera le complément de l'angle CMT , donc le rayon de courbure fera en raison directe de la sécante de l'angle CMR .

THÉORÈME XVI.

§. 39. *Avant prolongé la droite MC en S , menez-y la perpendiculaire RS de l'extrémité du rayon de courbure, ou de son Centre, je dis que la lumière passant par le point M sous un angle d'incidence quelconque, le centre du rayon de courbure, qui répondra au point M se trouvera toujours dans la droite SR , prolongée si le besoin l'exige.*

DÉMONSTRATION.

Car le rayon de courbure étant en raison constante de la sécante de l'angle SMR , il est évident que la droite MS étant constante & supposée être le rayon, la droite MR ou le rayon de courbure représentera cette sécante, & lui étant égale dans un cas le fera aussi dans tous les autres.

COROLLAIRE,

§. 40. Si donc la route de la lumière est circulaire, il n'y aura rien de si facile, que de la décrire pour chaque obliquité d'incidence, parce qu'un seul centre étant donné, tous les autres le feront aussi.

THÉORÈME XVIII.

§. 41. La droite MS est au rayon de la couche CM comme l'angle MCn à l'angle de réfraction tMT .

DÉMONSTRATION.

Par le Théorème XI. (§. 31.) on a

$$MR = Mn. MT : ts.$$

Mais par la Construction il est

$$\begin{aligned} Mm &= CM. MCm. \\ Mn &= CM. MCm : \sin. TMC \\ MT &= CM. \cosin. TMC \\ ts &= CM. \cos. TMC. tMT. \end{aligned}$$

donc

donc en substituant on aura

$$MR = \frac{CM \cdot MCm}{tMT \cdot \sin TMC}$$

Or par le Théorème précédent

$$MR = MS : \sin TMC$$

donc

$$MS = CM \cdot MCm : tMT.$$

& partant

$$MS : CM = MCm : tMT.$$

COROLLAIRE I.

§. 42. Toutes les fois donc que l'angle au centre MCm est plus grand que la refraction tMT , la droite MS sera aussi plus grande que le rayon CM , & réciproquement, & à plus forte raison tous les autres rayons de courbure MR seront plus grands que CM .

COROLLAIRE II.

§. 43. Mais si $MCm < tMT$, il sera aussi $SM < CM$, & les autres rayons de courbure croissants à l'infini pourront être plus grands ou plus petits que CM .

REMARQUE.

§. 44. Le premier cas existe dans l'atmosphère, & nous verrons après que la droite MS est toujours 6 à 8 fois plus grande que le rayon MC. Nous nous y arrêterons donc d'avantage.

THÉORÈME XIX.

§. 45. La somme des deux angles tMT & TMC est égale à la somme des deux angles MCn & MnC .

DEMONSTRATION.

Car $MCn + MnC = tMC$
 or $tMC = tMT + TMC$
 donc $MCn + MnC = tMT + TMC$

COROLLAIRE I.

§. 46. Si donc l'angle tMT est plus petit que l'angle MCn , l'angle tnC sera aussi plus petit que l'angle TMC & réciproquement.

COROLLAIRE II.

§. 47. Par conséquent si $tnC < TMC$ il sera aussi $CM < MS$. & réciproquement.

Corol-

COROLLAIRE III.

§. 48. D'où l'on tire que lorsque $CM = MS$, il sera aussi $tMT = MCn$ & $TMC = tnC$.

THÉORÈME XX.

§. 49. Si l'angle de refraction tMT est continuellement plus grand que l'angle au centre MCn , le rayon MA s'approchera du centre C dans une ligne spirale.

DÉMONSTRATION.

Si $tMT > MCn$, il sera aussi $tnC > TMC$, donc la tangente TM sera plus inclinée à son rayon MC , que n'est la tangente tn à son rayon nC . Or cette propriété ne convient qu'aux Spirales, dont le centre est C . Donc &c.

REMARQUE.

§. 50. Ce Théorème a encore lieu, lorsque les angles tMT sont constamment égaux aux angles répondans MCn . Car alors il est aussi $TMC = tnC$. C'est à dire, la courbe, que le rayon décrira en ce cas est dans tous ses points également inclinée aux rayons, qu'on y mène du centre C . Cette qualité ne convient qu'aux spirales logarithmiques, lesquelles par conséquent seront décrites en ce cas moien par les rayons de lumière. Et c'est le seul cas, où l'angle d'inclinaison de la courbe à ses rayons peut être quelconque. Pour toutes les autres spirales, où $tMT > MCn$, il ne sauroit excéder une certaine grandeur, parceque la lumière, au lieu de se briser en remontant du centre, seroit toute

toute réfléchie. Ainsi la logarithmique spirale est le cas extrême de ceux, où les réfractions sont possibles sous tous les angles d'incidence.

THÉORÈME XXI.

§. 51. Si l'angle TMt est constamment plus petit que l'angle au centre répondant MCn , la courbe que la lumière décrira, aura un sommet, ce sommet sera plus proche du centre C , que tout autre point de la courbe, la droite qu'on y mènera du centre, en sera l'axe, & perpendiculaire à la courbe, & la courbe de l'un & de l'autre côté de cet axe se sera semblable.

DÉMONSTRATION.

Car l'angle TMt étant plus petit, que l'angle MCn , l'angle TMC sera plus grand que l'angle $t nC$. Donc l'angle TMC s'agrandira à mesure que la courbe approche du centre jusqu'à ce qu'il devienne droit. Ce qui arrivant, la route de la lumière sera perpendiculaire au rayon, qu'on y mènera du centre, & la lumière remontera par les couches supérieures. Or la réfraction, en remontant par chaque couche, sera la même que lorsqu'elle descendit par la même couche. Donc &c.

REMARQUE.

§. 52. J'ai abrégé cette démonstration, qui auroit été beaucoup plus longue, s'il avoit fallu démontrer chaque point du Théorème séparément. Je la crois cependant suffisamment développée, pour que l'on en puisse comprendre les conséquences.

D'ail-

D'ailleurs ces deux derniers Théorèmes font voir la nature des courbes, que la lumière peut décrire dans des milieux sphériques & concentriques, lorsque le rapport entre les degrés de réfrangibilité des différentes couches suit une même loi par tout. Car ce seront ou des spirales (§. 49.) si la refraction est assez forte pour que l'angle TMn soit plus grand que l'angle Mcn ; ou s'il est plus petit, ce ne seront que des courbes semblables de l'un & de l'autre côté de l'axe, & leur position sera telle, que l'axe passera toujours par le centre C . & dans ce dernier cas le rayon de courbure, qui répond au sommet est toujours plus grand, que la droite qu'on y mène du centre C (§. 47.) De-là on exclut toutes les courbes qui n'ont qu'une seule asymptote, comme la logarithmique, toutes celles qui n'ont point les deux moitiés coupées par leur axe semblables, les courbes d'une dimension impaire &c. Par-contre on admettra les sections coniques, qui seront même les plus simples, & qui ne laissent pas d'avoir aussi, dans ce cas, des propriétés fort élégantes.

THÉORÈME XXII.

§. 53. *Les milieux restant les mêmes, toutes les routes, dont le sommet est à une distance égale du centre C , ne différeront que de position.*

DÉMONSTRATION.

Car les couches des milieux étant sphériques & concentriques, il est évident que de quelque côté que la lumière y entre sous un même angle d'incidence, elle subira les mêmes refractions & se courbera dans tous les cas de la même manière. Or comme la route de la lumière dans le sommet de la courbe est perpendiculaire au rayon, qu'on y mène du centre C , il est évident, que dès que ce

foi'mmet se trouve dans la même distance du centre, toutes les refractions seront les mêmes, & partant les routes ne différeront que de position, en sorte que leurs axes se croiseront dans le centre C.

REMARQUE.

§. 54. Il en est tout autrement, lorsque les foyers seront à une distance inégale du centre, ou qu'ils se trouvent dans des couches différentes.

COROLLAIRE I.

§. 55. Ainsi on déterminera toujours la même courbe, en quelque point d'une couche qu'on suppose son foyers, pourvu que la couche soit la même.

COROLLAIRE II.

§. 56. Ayant donc donné de position une partie d'une route AM, & le rayon de courbure qui répond à un de ses points M, on pourra supposer en M le foyers d'une autre route, dont MC sera l'axe, & la droite MS le rayon de courbure, qui répond à ce foyers (§. 39.)

COROLLAIRE III.

§. 57. Si donc la construction de la route de la lumière ne dépend que d'une seule constante, comme lorsqu'elle est un cercle ou une parabole, il est évident, qu'une seule route étant construite, on en trouvera toutes les autres, parceque cette constante est seule dans la détermination du rayon de courbure à son foyers.

REMARQUE.

§. 58. C'est ainsi que, si la route de la lumière par les milieux est une parabole, on trouvera que la distance entre le centre des milieux C, & celui des rayons de courbure, qui répondent à leurs sommets, est constante. D'où il suit, que le foyer des paraboles ne tombera sur le centre des milieux C, que dans un seul cas. Mais si l'équation pour la trajectoire AM a plusieurs coefficients, on n'en déterminera qu'un seul par ce Théorème. Les autres se définiront par les Théorèmes VI & XVI pour chaque obliquité d'incidence, dès qu'ils seront donnés pour une seule. Car les équations qu'on trouvera ne différeront que par les coefficients, ce qui peut se prouver, en comparant l'expression universelle du rayon de courbure que l'on donne dans l'Analyse des courbes, avec celle que nous avons donnée pour ceux de nos trajectoires dans le Théorème XI. (§. 31.) Exprimons maintenant en termes analytiques les rapports de la courbe aux droites, qui y sont appliquées.

PROBLÈME I.

§. 59. Trouver l'équation différentielle pour les réfractions.

SOLU-

SOLUTION.

Exprimant le rayon CA par l'unité, de sorte que
 $CA = 1$, soit la distance $CM = r$, l'angle BAG
 $= DAC = \gamma$, l'arc $AM = x$, $Mn = dx$

$$\begin{aligned} TMC &= \omega, \\ ACM &= s, \quad \overline{MCm} = ds \\ TGA &= z, \quad \overline{TMt} = dz \end{aligned}$$

& le rayon de courbure $MR = R$,
 la perpendiculaire $CT = v$, $ts = dv$

On aura $DC = \sin. \gamma$, $DA = \cos. \gamma$
 $TC = v = r. \sin. \omega$, $TM = r. \cos. \omega$
 ou $TM = \sqrt{rr - vv}$

Or l'angle TMt étant la refraction différentielle,
 on aura

$$\begin{aligned} dz &= dv : \sqrt{rr - vv} \\ \text{ou } dz &= dv : r. \cos. \omega \\ \text{ou } dz &= dv. \text{tang. } \omega : v \end{aligned}$$

Qui sont les équations, qu'il falloit trouver.

REMARQUE.

§. 60. Cependant ce ne sont pas les seules, puisque, par ex. on peut encore exprimer la refraction différentielle par le rayon de courbure. Car l'angle MRn étant égal à l'angle de refraction TMt , (§. 30.) on aura

$$\begin{aligned} dz &= Mn : MR \\ \text{Mais puisque } Mn &= Mm : \sin. \omega \\ &\& Mm = MCm. MC = rds \end{aligned}$$

En substituant l'équation se transformera en

$$dz = rds : R \sin. \omega.$$

COROLLAIRE.

§. 61. D'où l'on déduit réciproquement le rayon de courbure $R = rds : dz \sin. \omega.$

THÉORÈME XXIII.

§. 62. Le rayon de courbure MR est au rayon CM de la couche M comme la distance des deux couches mn à la différence des deux perpendiculaires ts .

DE'MONSTRATION.

Par le Théorème XI. (§. 31.) on aura

$$R : dx = r. \cos. \omega : dv$$

d'où l'on tire

$$R = r dx. \cos. \omega : dv$$

Mais

$$dx. \cos. \omega = dr$$

donc

$$R = r dr : dv.$$

& partant

$$R : r = dr : dv$$

REMARQUE.

§. 63. Cette Propriété du rayon de courbure est purement analitique, & a lieu à l'égard de chaque courbe rapportée à un point fixe C que l'on considère comme un centre. Elle devient plus particulière, en considérant, que dans le cas présent les perpendiculaires v sont en raison constante du sinus de l'angle TMC . Car on en déduit que pour la même couche le rayon de courbure R est réciproquement comme ce sinus. (§. 37.)

THÉORÈME XXIV.

§. 64. La longueur des perpendiculaires CT , Ct menées aux tangentes de la trajectoire TM , en est en raison composée de la perpendiculaire CD menée à la droite, qui touche la trajectoire au point A , & du degré de réfrangibilité des couches M , n , d'où les tangentes partent.

DÉMONSTRATION.

Car TC est à DC en raison des sinus de l'angle d'inclinaison & de l'angle brisé, lorsque la lumière passe immédiatement du milieu, qui est en la couche M , dans le milieu, qui est en A . (§. 12. 19.) or les couches restant les mêmes, ce rapport est constant (§. 1.); donc en ce cas la perpendiculaire CT est en raison constante de DC . Mais ce même rapport variant d'une couche à l'autre suivant leur différent degré de réfrangibilité, il est évident que les perpendiculaires CT , Ct seront en raison composée de DC & du degré de réfrangibilité des couches M , n , d'où les tangentes TM , en sont tirés.

COROLLAIRE I.

§. 65. Puisque en rapportant les perpendiculaires CT , Ct à une même trajectoire, la droite CD est constante & $\propto \sin. \gamma$, il est clair que ces perpendiculaires dépendront chacune simplement du degré de réfrangibilité de leurs couches respectives.

COROLLAIRE II.

§. 66. Donc elles pourront être exprimées par une fonction des raïons des couches auxquelles elles se rapportent.

COROLLAIRE III.

§. 67. Et en général en les rapportant à différentes trajectoires, elles seront comme cette fonction multipliée par le sinus de l'angle DAC.

REMARQUE.

§. 68. Cette qualité des perpendiculaires menées aux tangentes des trajectoires deviendra plus intéressante dans la suite. Appliquons maintenant ce que nous avons démontré jusqu'ici au cas qui existe dans l'atmosphère de la terre.

SECTION II.

Des Refractions Astronomiques, de la maniere de les déterminer par approximation aussi exactement que l'on voudra, & de leur rapport à divers autres Problèmes.

EXPOSITION DU CAS.

§. 69. **I**L ne s'agit ici que d'appliquer la 3^e. figure à notre terre & à son atmosphère. Soit donc C son centre & celui des couches de l'air: CA le demi-diamètre, le cercle tiré par A sa surface, BM une couche de l'air, bn une autre, qui lui est infiniment proche; nMA un rayon de lumière qui y passe, & qui tombe en A: AJ sa touchante en A, & JAB sa distance apparente du Zenith. Ceci posé, les autres lignes ont la même signification & dénomination, que nous leur avons données ci-dessus (§. 30. 58.) Ainsi l'angle TGA sera la refraction que la lumière souffre en parcourant la partie MA de sa route par l'air, & si AM est la route entière, cet angle sera la refraction totale.

THÉORÈME XXV.

§. 70. Si Ab représente toute la hauteur de l'atmosphère, le rapport entre les perpendiculaires Ct & CD sera le même qui est entre les sinus de l'angle d'inclinaison E de l'angle brisé, lorsque la lumière passe immédiatement du vuide dans l'air naturel, tel qu'il est à la surface de la terre.

DÉMONSTRATION.

Car TC est à DC en raison des sinus de l'angle d'incidence & de l'angle brisé, lorsque la lumière passe immédiatement du milieu qui est en A (§. 12. 19.) or la surface bn étant à l'extrémité de l'air, il est évident qu'au-dessus de cette surface il n'y a d'autre milieu, que l'Ether, que l'on appelle vuide par rapport à un espace qui est rempli d'air. Et le milieu qui se trouve en A c'est l'air naturel, tel qu'il se trouve à la surface de la terre. Donc &c.

REMARQUE.

§. 71. Par les expériences, que Mr. Hawkbée a faites, & par ce que nous déduirons après cela des refractions astronomiques, on trouve, que ce rapport n'excede jamais celui de 3001 à 3000, & que par conséquent la plus grande différence entre les perpendiculaires extrêmes CD , Ct est toujours au-dessous de la $\frac{1}{3000}$ partie de CD . Or les refractions horizontales comme les plus grandes, n'étant gueres au-dessus d'un demi-degré, il est évident que si en négligeant cette différence, la négligence influe proportionnellement sur les refractions,

tions, l'erreur qui en résulteroit seroit toujours au-dessous d'une seconde. C'est ce qui nous fournit le suivant

THÉORÈME XXVI.

§. 72. La refraction est égale à une *donc* partie de près à la différence de DAM & de TM divisée par CD .

DÉMONSTRATION.

Par le Problème I. (§. 59.) nous avons

$$dz = \frac{dv}{\sqrt{(rr - vv)}}$$

Multipliez l'un & l'autre membre par v , ce qui fera

$$vdz = \frac{v dv}{\sqrt{(rr - vv)}}$$

Soustrayez-en de part & d'autre rdr : $\sqrt{(rr - vv)}$ & vous aurez

$$vdz - \frac{rdr}{\sqrt{(rr - vv)}} = \frac{v dv - r dr}{\sqrt{(rr - vv)}}$$

ou bien

$$vdz = \frac{rdr}{\sqrt{(rr - vv)}} - \frac{rdr - vdv}{\sqrt{(rr - vv)}}$$

Q:

Or le membre $r dr : \sqrt{(rr - vv)}$ est egal à la différentielle de la trajectoire dx , donc

$$v dz = dx - \frac{r dr - v dv}{\sqrt{(rr - vv)}}$$

& en prenant l'intégrale il fera

$$\int v dz = x - \sqrt{(rr - vv)} + \text{const.}$$

La Constante se trouve de ce qu'en faisant $x = 0$, il doit être $\int v dz = 0$. Or en posant $x = 0$, il fera $r = r$, $v = CD$, donc la constante $= \sqrt{r^2 - CD^2} = DA$, & partant

$$\int v dz = AM + DA - MT$$

Mais comme la perpendiculaire v ne varie que d'une $\frac{1}{1000}$ partie, en la considerant comme constante & egale à DC , on aura enfin la refraction

$$z = \frac{AM + DA - MT}{DC} = \frac{DM - MT}{DC}$$

Or il est evident qu'au lieu de DC . z il auroit fallu substituer pour $\int v dz$ le produit de z multiplié avec quelque perpendiculaire intermédiaire entre DC & CT , qui approcheroit fort de la moyenne, & qui par conséquent ne l'excederoit pas de la $\frac{1}{1000}$ partie. Donc en faisant $z = (DM - MT) : DC$ l'erreur qui s'y commet est au-dessous de la $\frac{1}{1000}$ partie de la refraction.

COROLLAIRE I.

§. 73. Elle est donc au-dessous d'une demi-seconde pour les refractions horizontales, & deviendra tout à fait insensible pour celle des hauteurs plus élevées.

COROLLAIRE II.

§. 74. Comme la courbure du rayon n'est que d'un demi-degré tout au plus, on peut le regarder comme une ligne droite, & il est visible, que la refraction pourra se trouver fort facilement par ce Théorème, dès que le point M sera donné.

REMARQUE.

§. 75. Mais il faut qu'il soit donné exactement. Car la position de la droite restant la même, la perpendiculaire CT & partant aussi la tangente TM sera constante. De sorte que la position du point M sur la surface MB variant, il n'y aura que la longueur de l'arc AM qui variera, & comme la refraction est proportionnelle à la différence de DAM & de TM, il est manifeste, que cette différence sera plus ou moins grande, suivant que l'on changera la position de M. Au reste ce Théorème comme divers autres, que nous exposerons dans la suite, n'est que pour faire voir de combien de manières on peut envisager un même objet. Car dès que la position du point M pour chaque hauteur des astres est donnée, on n'aura pas besoin de ce Théorème, qui ne donne qu'un à peu près, mais les refractions pourront être déterminées exactement de

de plusieurs manières, suivant ce que nous avons fait voir ci-dessus (§. 20. 21. 25. 26.)

PROBLÈME II.

§. 76. Exprimer les refractions par une suite.

SOLUTION.

Par le Problème I. (§. 59.) on a

$$dz = dv : \sqrt{rr - vv}$$

Or en resolvant cette expression par la formule connue des binomes, on trouvera

$$dz = dv \left(\frac{1}{r} + \frac{1 \cdot v^2}{2 \cdot r^3} + \frac{1 \cdot 3 \cdot v^4}{2 \cdot 4 \cdot r^5} + \frac{1 \cdot 3 \cdot 5 \cdot v^6}{2 \cdot 4 \cdot 6 \cdot r^7} + \&c. \right)$$

Or la perpendiculaire v est en raison composée du sinus de l'angle DAC & d'une fonction de la hauteur CM (§. 67.) Faisant donc cette fonction = P , en sorte que $v = P \cdot \sin. \gamma$. on aura $dv = dP \cdot \sin. \gamma$, donc en substituant, la suite trouvée se transforme en

$$dz = \frac{dP}{r} \cdot \sin. \gamma + \frac{1 \cdot P^2 dP}{2 \cdot r^3} \cdot \sin. \gamma^3 + \frac{1 \cdot 3 \cdot P^4 dP}{2 \cdot 4 \cdot r^5} \cdot \sin. \gamma^5 + \&c.$$

& en prenant les intégrales

$$z = \sin.$$

$$z = \sin. \gamma. \int \frac{dP}{r} + \frac{\sin. \gamma^3}{2} \int \frac{P^2 dP}{r^3} + \frac{1.3.}{2.4.} \sin. \gamma^5. \int \frac{P^4 dP}{r^5} + \&c.$$

Or comme les intégrales de tous les termes de cette suite dépendent simplement de la hauteur de l'atmosphère, & qu'elles sont indépendantes de l'angle γ , il est évident qu'on peut les considérer comme des coefficients, & que par conséquent la constitution de l'atmosphère restant la même, les réfractions qui répondent à chaque distance des astres du Zenith, seront exprimées par la suite

$$z = A \sin. \gamma + \frac{1}{2} B. \sin. \gamma^3 + \frac{1.3.}{2.4.} C \sin. \gamma^5 + \&c.$$

dont les termes croissent suivant les puissances impaires du sinus de la distance des astres du Zenith.

REMARQUE.

§. 77. Cette suite n'est pas fort convergente, & il faut plusieurs termes, pour définir les réfractions des hauteurs moins grandes.

Car la fonction P de même que le rayon r varient fort peu, toutes les intégrales seront assez peu différentes l'une de l'autre, de sorte que la convergence des Coefficiens n'est gueres plus grande que celle de la suite $1, \frac{1}{2}, \frac{1.3.}{2.4.} \&c.$

Afin donc de transformer la suite trouvée en une autre, qui soit plus convergente, il faut exprimer les réfractions par une suite dont les termes procedent par les puissances impaires des tangentes de l'angle γ . Ce qui peut toujours se faire. On trouvera donc

$$z = A$$

$$z = A \operatorname{tang.} \gamma - \frac{1}{2} A \operatorname{tang.} \gamma^3 + \frac{1 \cdot 3}{2 \cdot 4} A \operatorname{tang.} \gamma^5 - \&c.$$

$$+ \frac{1}{2} B \operatorname{tang.} \gamma^3 + \frac{3 \cdot 2}{2 \cdot 4} B \operatorname{tang.} \gamma^5 + \&c.$$

$$+ \frac{1 \cdot 3}{2 \cdot 4} C \operatorname{tang.} \gamma^5 - \&c.$$

Or si tous les coefficients A, B, C, D, &c. étoient égaux entre eux, tous les termes de cette suite outre le premier s'annuleroient, & on auroit

$$z = A \operatorname{tang.} \gamma.$$

Mais comme ces constantes A, B, C &c. ne diffèrent que très peu entre elles, il s'en suit, que cette série est infiniment plus convergente que la précédente, puisque le coefficient du premier terme est le même dans l'une & dans l'autre suite, & que les tangentes d'un angle croissent bien plus fortement que les sinus &c.

COROLLAIRE.

§. 78. On pourra donc exprimer les réfractions par la suite

$$z = a \operatorname{tang.} \gamma - b \operatorname{tang.} \gamma^3 + c \operatorname{tang.} \gamma^5 - \&c.$$

dont il faudra très peu de termes, pour les définir, si on en excepte les plus horizontales, parce que la tangente de l'angle γ devenant alors fort grande, la suite deviendra divergente.

PROBLÈME III.

6. 79. Quelques réfractions étant données, trouver toutes les autres, qui ne sont pas les plus bornées.

SOLUTION.

Il ne faudra que se servir des réfractions données, pour déterminer les coefficients de la suite

$$z = a \operatorname{tang.} \gamma - b. \operatorname{tang.} \gamma^2 + c. \operatorname{tang.} \gamma^3 - \&c.$$

ce que j'ai trouvé pouvoir se faire le plus commodément de la façon suivante.

1°. Egalez le premier terme $a. \operatorname{tang.} \gamma$. à une réfraction, qui réponde à un angle γ . d'environ 40 à 45. degrés, ce qui donnera le coefficient a , lequel étant substitué;

2°. Egalez les deux premiers termes à une réfraction d'un angle γ plus grand, p. ex. d'environ 60 à 65 degrés, d'où vous déduirez le second coefficient b . lequel étant aussi substitué:

3°. Egalez les trois premiers termes à la réfraction d'un angle γ encore plus grand, comme d'environ 75 à 80 degrés, ce qui donnera le troisième coefficient, & de cette manière vous continuerez à déterminer les coefficients des termes suivans.

REMARQUE.

§. 80. La raison de cette opération consiste en ce que le coefficient de chaque terme suivant est trop petit pour qu'il puisse influer sensiblement dans la détermination des précédens, de sorte qu'en choisissant bien les refractions ils pourront toujours être omis. Je vais maintenant en donner un exemple. Mais comme les refractions, telles qu'on les trouve en plusieurs traités, ont été observées à différentes reprises & par conséquent en différentes constitutions de l'atmosphère, j'ai jugé que je ferois mieux en me servant de la table de Mr. Dan. Bernoulli, qui se trouve dans son excellent traité de Hydrodynamique. Non, parcequ'elle répond exactement aux observations, mais parcequ'elle est calculée sur une hypothese, qui suppose pour toutes les élévations des astres une même constitution de l'air, & que d'ailleurs elle ne laisse pas que d'approcher de la vérité. Car notre suite étant également applicable à tous les cas, il est assez indifférent duquel je me serve, des qu'il a la condition que je viens de dire.

7	7
20	22
107	100
282	280

Voici la suite pour le premier coefficient

$$2d = 282 \quad d = 141$$

pour le second

$$201 = 200 \quad d = 100$$

D

Voici

Voici la table, que Mr. Bernoulli donne.

γ	z	γ	z
90°	34' : 53"	45	1' : 3"
85	9 : 59	40	0 : 53
80	5 : 28	35	0 : 44½
75	3 : 44	30	0 : 36½
70	2 : 47	25	0 : 29½
65	2 : 12	20	0 : 23
60	1 : 47	15	0 : 17
55	1 : 29	10	0 : 11½
50	1 : 15	5	0 : 5½
45	1 : 3	0	0 : 0

EXEMPLE.

§. 81. Nous choifrons de cette table les trois refractions suivantes

γ	z
45°.	63.
60.	107.
80.	328.

D'où l'on aura pour le premier coefficient

$$a. \text{ tang. } 45^\circ. = 63.$$

$$a = 63.$$

pour le second

$$63. \text{ tang. } 60^\circ = b(\text{tang. } 63^\circ)^2 = 107$$

(1)

d'où

d'où l'on tire

$$b = 0,408.$$

& pour le troisieme

$$63 (\text{tang. } 80^\circ) - 0,408 (\text{tang. } 80^\circ)^3 + (c. \text{tang. } 80^\circ)^5 \\ = 328.$$

d'où on aura

$$c = 0,011$$

& partant pour les refractions de tous les angles γ , qui sont au-dessous de 80 degrés

$$z = 63. \text{tang. } \gamma - 0,408 \text{ tang. } \gamma^3 + 0,011 \text{ tang. } \gamma^5.$$

Ainsi p. ex. pour l'angle, $\gamma = 70^\circ$, on trouvera

$$z = 173,1 + 1,7 - 8,4 = 166,4$$

ou

$z = 2',46\frac{1}{2}''$ ce qui ne differe que d'une demie-seconde de la valeur $2',47''$ que la table donne pour cet angle.

THÉORÈME XXVII.

§. 82. En prenant une couche quelconque BM & sa distance CM du centre comme constante, la refraction astronomique pourra être exprimée par une suite, dont les termes procedent suivant les dimensions impaires de l'angle TMC ou de son sinus ou de sa tangente, ou suivant les puissances paires de son cosinus ou de sa cotangente.

DÉMONSTRATION.

La couche restant la même dans tous les cas le sinus de l'angle TMC fera dans un rapport constant au sinus γ de l'angle DAC (§. 17.) Faisant donc l'angle TMC \doteq E, & m sin. E \doteq sin. γ . Or en substituant m sin. E pour sin. γ dans la suite que nous avons trouvée (§. 74.) on aura

$$z = A m \sin. E + \frac{1}{2} B \sin. E^3. m^3 + \&c.$$

D'où l'énoncé du Théorème est évident par rapport au sinus de l'angle E. On en trouvera de même la vérité pour la tangente, le cosinus &c. en exprimant leur valeur par sin. E suivant les principes de la Cyclometrie.

COROLLAIRE.

§. 83. De-là il suit que les series, que l'on trouve pour les refractions totales, ne diffèrent de celles pour les refractions partiales, qui se font entre deux couches quelconques, qu'à l'égard des coefficients. Ainsi aiant pour les refractions totales la suite (§. 76.)

$$z = a \text{ tang. } \gamma - b \text{ tang. } \gamma^3 + c \text{ tang. } \gamma^5 - \&c.$$

On aura pareillement pour les refractions entre les deux couches A & M

$$z = \mu. \text{ tang. } \gamma - \nu. \text{ tang. } \gamma^3 + \pi. \text{ tang. } \gamma^5 - \&c.$$

& pour celles entre deux autres couches quelconques

$$z = m \text{ tang. } \gamma - n \text{ tang. } \gamma^3 + \&c.$$

RE

REMARQUE.

§ 84. Le moien, dont je me suis servi, pour trouver ces suites & pour les appliquer aux refractions d'une maniere universelle & independante de toute hypothese particuliere, consiste en ce que j'ai taché de séparer le sinus de l'angle γ , qui entre dans la différentielle $dv : \sqrt{(rr - vv)}$ & particulièrement dans le signe radical, des autres quantités, qui dépendent uniquement de la hauteur des couches, & qui en font une fonction. De sorte que l'intégration ne pouvant s'absoudre universellement, le sin. γ en soit entierement séparé, & qu'on puisse traiter l'intégrale de constante. Il ne m'a pas été possible de l'effectuer par une expression finie, ni même par une de celles, que l'on nomme imaginaires, & dont on a trouvé plusieurs pour la multisection des arcs circulaires, comme pour divers autres cas. Mais en recourant à des suites infinies on trouvera facilement encore plusieurs manieres de s'en servir pour exprimer les refractions.

PROBLÈME IV.

§. 85. La position du point G, qui est celui de l'intersection des tangentes AJ, TM, & le rapport entre le sinus d'inclinaison & celui de l'angle brisé, lorsque la lumiere entre immédiatement de l'air qui est en M dans celui qui se trouve en A, étant donnés, trouver la refraction, que la lumiere souffre en parcourant la route MA.

SOLUTION.

Le rapport entre le sinus d'inclinaison & celui de l'angle brisé, lorsque la lumière passe immédiatement de l'air qui est dans la couche M, dans celui qui est en A, est égal au rapport entre les perpendiculaires CD, CT. (§. 12. 13. 14.) comme étant les sinus des angles DGC, TGC, si l'on regarde la droite CG comme le rayon. Or la position du point G étant donnée, on aura l'angle AGC, dont le sinus sera au sinus de l'angle TGC dans le rapport que nous venons de dire. Mais ce rapport étant donné aussi, on en tirera le sinus de l'angle TGC & partant l'angle TGC, dont on soustraira l'angle DGC, & l'on aura la refraction TGD, qu'il falloit trouver.

COROLLAIRE,

§. 86. Si donc on suppose les deux couches A & M les mêmes, & que la position du point G est donnée pour chaque distance du Zenith, il ne faudra qu'une seule refraction, pour déterminer le rapport entre les perpendiculaires CD, CT. lequel étant constant pour tous les angles BAG (§. 19.) on en trouvera ensuite toutes les autres refractions.

REMARQUE I.

§. 87. Comme ce Problème & son Corollaire a lieu pour des couches quelconques, il est évident que le cas pour les deux extrêmes y est aussi compris & que par ce moyen les refractions astronomiques se détermineront pareillement, si la position des points G étoit donnée.

REMARQUE II.

§. 88. Nous avons déjà observé (§. 16.) que les points G ne sont pas également distans du centre C. Car si cela étoit, les refractions astronomiques pourroient être trouvées exactement dans l'hypothèse de la refraction rectiligne. Comme cependant cette hypothèse satisfait assez bien aux observations pour des hauteurs plus grandes, il s'en suit de-là, que les points G se trouvent sur une courbe, qui ne laisse pas que d'être assez circulaire, & que la hauteur de l'atmosphère, qu'on croit avoir trouvée dans cette hypothèse, n'est autre chose que la distance du point G de la surface de la terre, qui est bien des fois plus petite, que la distance de l'extrémité de l'air, puisque la courbure de la trajectoire proche de la surface de la terre excède de beaucoup celle qu'elle a dans les couches supérieures de l'air.

REMARQUE III.

§. 89. Cette propriété du point G nous fournit encore un moyen d'examiner l'exactitude des réfractions observées. Car aiant une réfraction, qui réponde à un angle DAC quelconque, on fera l'angle DCT égal à cette réfraction, & la proportion entre les perpendiculaires DC & TC connue & constante, donnera la distance CT, de laquelle il faut soustraire $CV = DC. \sec. z$, pour avoir TV. Or faisant $TG = TV. \cot. z$ ou bien $VG = TV. \operatorname{cosec}. z$, on déterminera la position du point G. Si donc on la trouve aussi pour les autres réfractions observées, tous ces points doivent se trouver dans une ligne courbe, qui diffère fort peu d'un arc de cercle, dont le centre est sur la droite CA. Mais pour peu qu'il y ait de l'erreur dans les réfractions, ces points G seront extrêmement éloignés de la courbe, dans laquelle ils devoient être, puisque la distance TG varie en raison de la cotangente de l'angle de réfraction, & par conséquent fort rapidement, & d'autant plus, que la réfraction, & par conséquent la distance apparente du Zenith seront plus petites. Mais en invertant le cas, on pourra déterminer fort exactement les réfractions répondantes à des élévations des astres tant soit peu considérables, p. ex. d'au-dessus de 10 ou 15 degrés, sans qu'il soit nécessaire de connoître exactement la position des points G.

REMARQUE IV.

§. 90. Comme la Solution du Problème, aussi bien que l'examen des refractions observées dépend du rapport entre les perpendiculaires CD, CT. on pourra le déterminer moyennant une refraction, qui réponde à une hauteur moyenne, c'est à dire, d'environ 45 degrés. Car puisque la distance du point G de la surface de la terre est tres petite, & que pour ces hauteurs il est indifférent de la prendre un peu plus ou moins grande, on pourra supposer que le point G tombe en A, ce qui donne l'analogie suivante

$$CD : CT = \sin. \gamma : \sin. (\gamma + z)$$

ou

$$CD : CT = 1 : (\cos. z + \cot. \gamma. \sin. z)$$

PROBLÈME V.

§. 91. Le rapport entre les deux perpendiculaires extrêmes CD, CT & deux refractions peu éloignées des horizontales étant données, trouver toutes les autres.

SOLUTION.

Comme la courbe, qui passe par tous les points G ne diffère que fort peu d'un arc circulaire dont le centre se trouve sur la droite AC qui passe par le centre de la terre & par le lieu d'observation à la surface; il est évident qu'en substituant pour cette courbe un arc de cercle, il n'en faudra avoir que deux points donnés de position, pour pouvoir tracer cet arc de cercle. Or la proportion entre les perpendiculaires CT, CD & deux refractions étant données, on trouvera deux distances AG pour deux angles BAG, de la manière que nous avons fait voir dans la troisième Remarque jointe au Problème précédent (§. 89.)

Fig. 4.

Soit donc A le lieu de l'observation, G, g les deux points donnés, QBGG le cercle qui passe par ces deux points, & dont le centre est sur la droite verticale AE en C.

Faisons

$$\begin{array}{ll} \text{l'angle } BAg = \gamma & \text{la droite } Ag = a \\ BAG = \zeta & AG = A \\ & \& AC = x \end{array}$$

Prolongez les droites Ag, AG en q, Q, & menez-y les perpendiculaires Cp, CP. & vous aurez

$$\begin{array}{l} AP = x. \text{ cof. } \zeta \\ Ap = x. \text{ cof. } \gamma \end{array}$$

d'où l'on tire

$$\begin{array}{l} AQ = 2x. \text{ cof. } \zeta + A \\ Aq = 2x. \text{ cof. } \gamma + a \end{array}$$

Or par la nature du cercle

$$AQ \cdot AG = Ag \cdot Aq.$$

donc

$$2x A \cos. f + AA = 2x a \cos. \gamma + aa$$

& partant

$$x = \frac{AA - aa}{2(a \cos. \gamma - A \cos. f)}$$

Si l'angle f est 90° , on aura

$$x = \frac{AA - aa}{2a \cos. \gamma} = \frac{(A+a) \cdot (A-a)}{2a \cos. \gamma}$$

Ayant donc trouvé la distance du centre C de la surface A , on pourra tirer le cercle BG . Mais comme dans ce cas il faut préférer le calcul à la construction, il faudra encore trouver la distance BA pour avoir le rayon BC .

Or par la nature du cercle on a

$$BA \cdot AE = AQ \cdot AG.$$

d'où l'on déduit

$$BA(2AC + BA) = AQ \cdot AG$$

& par conséquent

$$BA = -AC + \sqrt{AC^2 + AQ \cdot AG}$$

&

$$CB = \sqrt{AC^2 + AQ \cdot AG}$$

Ce

Ce qui étant trouvé, on trouvera après cela la distance Ag pour chaque angle γ . Car puisque

$$Ag. Aq = AB. AE$$

&

$$Aq = Ag + 2 AC. \cos. \gamma$$

on aura

$$Ag^2 + 2Ag. AC. \cos. \gamma = AB. AE$$

d'où l'on tire

$$Ag = -AC. \cos. \gamma + \sqrt{(AB. AE + AC^2. \cos. \gamma^2)}$$

Fig. 3.

Or la distance AG étant connue, on aura

$$GD = AG + \cos. \gamma$$

$$DC = \sin. \gamma$$

&

$$CG = \sqrt{(AG^2 + 2AG. \cos. \gamma + 1)}$$

Et la refraction se trouvera par le Problème précédent.

Ou bien faisant $\frac{CT - CD}{CD} = r$, on trouvera

$$r = \frac{DG - \sqrt{(DG^2 - 2r. DC^2)}}{DG}$$

Et pour les angles γ , qui sont plus petits, il suffira de faire

$$r = \frac{DC}{DG}$$

REMARQUE.

§. 92. Le fondement de cette Solution consiste en ce que nous avons supposé, que la courbe, qui passe par les points G, ne differe presque point d'un arc circulaire, lequel par conséquent pouroit lui être substitué. Mais comme la position des points G est assez arbitraire pour les angles γ , qui sont plus petits, il suffira de prendre un arc de cercle, qui passe par les points G répondans aux refractions, qui sont proches de l'horison. Nous éclaircirons maintenant cette méthode par un Exemple, en prenant derechef les refractions de la table de M. Bernoulli par la raison, que nous en avons alleguée ci-dessus (§. 80.)

EXEMPLE.

§. 93. Pour trouver premierement le rapport entre les perpendiculaires CD, CT, nous choisirons la refraction $63''$, qui répond à l'angle $\gamma = 45^\circ$. d'où nous tirerons (§. 90.)

$$CD : CT = 1 : (\text{cos. } 63'' + \text{sin. } 63'')$$

donc

$$CD : CT = 1 : 1,0003054$$

& partant $e = 0,0003054$.

Ce qui étant fait, nous prendrons de la table les deux refractions pour les angles

$$\begin{array}{l} \gamma = 90^\circ \\ \gamma = 85 \end{array} \quad \begin{array}{l} z = 34' : 53'' \\ z = 9 : 59 \end{array}$$

det.

desquelles, suivant la méthode donnée ci-dessus (§. 89.) ou moyennant la formule

$$AG = (s. \text{cofec. } z + \text{tang. } \frac{1}{2} z) DC - AD$$

on aura pour le premier cas

Fig. 4. $AG = 0,0351 = A.$

pour le second

$$Ag = 0,0191 = z$$

& partant

$$AC = x = \frac{(A+z).(A-z)}{2a. \text{cof. } \gamma} = 0,2605$$

d'où nous voyons, que la distance AC est à peine la quatrième partie du demi-diamètre de la terre, & que par conséquent l'arc BG n'est que de 8 degrés.

Or AC étant trouvé, on aura de même par la formule

$$BA = -AC + \sqrt{AC^2 + AG^2}$$

$$BA = 0,00235.$$

$$CB = 0,26285.$$

$$AE = 0,52335.$$

de sorte que la hauteur BA est environ de deux lieues d'Allemagne.

Ces quantités une fois déterminées serviront de données pour trouver telle refraction, que l'on voudra. Car moyennant la formule

$$Ag = -AC. \text{cof. } \gamma + \sqrt{AB. AE + AC^2 \text{cof. } \gamma^2}$$

en y substituant les valeurs trouvées, on aura pour chaque distance Ag

$$Ag = -0,2605 \cdot \cos \gamma + \sqrt{(0,000123 + 0,06786 \cdot \cos \gamma^2)}$$

&

$$z = (DG - \sqrt{DG^2 - 2 * DC^2}) : DC$$

Par ex. pour l'angle $\gamma = 80^\circ$. on trouvera par la premiere de ces equations $Ag = 0,00133$.

& par la seconde $z = 0,00169$. Ce qui étant converti en minutes & en secondes, donnera

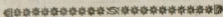
$5' : 28''$. pour la refraction, précisément comme on la trouve dans la table.

REMARQUE.

§. 94. Comme les refractions, que l'on met pour base en cette méthode, doivent être fort exactes, il est à propos de les examiner de la maniere que nous avons indiquée (§. 89.) avant que de s'en servir pour trouver les autres.

Car par-là on s'apercevra très facilement, si elles sont trop grandes ou trop petites & on sera en état de les corriger assez exactement. Il faudra le faire de même lorsqu'on voudra se servir des suites, que nous avons trouvées. Au reste ces méthodes étant si exactes & applicables à tous les états de l'atmosphère, il est évident, que par ces moyens on pourra porter les observations astronomiques, qui dépendent des refractions, à une très grande précision.

Car il ne faudra qu'observer quelques refractions dans le tems même qu'on les fait, pour en déduire celles que l'on cherche.



SECTION III.

Des refractions circulaires, de leur usage pour la détermination des refractions terrestres: & de divers autres Problèmes dépendans des Refractions tant astronomiques que terrestres.

PROBLÈME VI.

§. 95. Déterminer les refractions, dans l'hypothèse des trajectoires circulaires.

SOLUTION.

Fig. 5. Soient A J, B H deux couches d'un milieu dans lequel la lumière est brisée de la sorte qu'elle y décrive des arcs de cercle. Soient A g G, A h H deux de ces arcs, qu'elle y décrit, E & F leurs centres. Joignez les points A, G, F, & A, H, E pour avoir les triangles A G F, & A H E, & par A & le centre C menez la Verticale B D. & par les centres F, E la droite F E prolongée jusqu'en D, & les lignes tirées auront entre elles les rapports suivans.

1°. F D est perpendiculaire à B D (§. 38. 39.)

2°. Les centres de tous les autres arcs, que la lumière parcourt se trouveront sur la droite F D.

3°. La

3°. La refraction en AhH fera \equiv AEH & pareillement celle en AgG \equiv AFG.

4°. Les raïons AE, AF seront en raison des cosécantes des distances du Zénith. (§. 38.)

5°. Donc les refractions seront en raison directe des arcs parcourus, & en raison réciproque de la cosécante des distances du Zénith, & par conséquent comme les sinus de cette distance multipliés par la route parcourue.

COROLLAIRE I.

§. 96. Si la courbure de la route est fort petite, comme elle l'est dans le cas où nous allons appliquer le Problème présent, on pourra lui substituer la corde soutendante, & au lieu de l'angle gAB on prendra l'angle GAB.

COROLLAIRE II.

§. 97. Abaisant donc la perpendiculaire GK sur AB, on aura $GK \equiv AG \cdot \sin. GAB$, d'où il suit, que les refractions seront en raison constante des perpendiculaires

GK. (§. 95. n. 5.)

REMARQUE I.

§. 98. Comme les refractions dans l'hypothèse de la trajectoire circulaire, sont en raison des arcs parcourus, multipliez par les sinus de la distance du Zénith (§. 95.) & l'expression différentielle des arcs en général étant $\equiv dx = r dr : \sqrt{rr - vv}$, on aura pour les refractions circulaires

$$dz = m \sin. \gamma. r dr : \sqrt{rr - vv}$$

Mais il est en général (§. 59.)

$$dz = dv : \sqrt{rr - vv}$$

d'où l'on tire

$$m \sin. \gamma. r dr = dv$$

& en prenant les intégrales

$$\frac{1}{2} m \sin. \gamma. rr = v$$

$$\frac{1}{2} m. rr = \frac{v}{\sin. \gamma}$$

Fig. 3. Ce qui nous fait voir, que le rapport entre les perpendiculaires CD , CT croît en raison constante du carré du rayon CM , & par conséquent assez uniformément pour des couches du milieu, qui ne sont pas fort éloignées l'une de l'autre.

REMARQUE II.

§. 99. En appliquant le second Corollaire aux réfractions astronomiques, j'ai trouvé qu'on peut les déterminer assez exactement, bien que la hauteur de l'atmosphère, que l'on trouve en ce cas, soit aussi peu la véritable, que celle qu'on trouve dans l'hypothèse des réfractions rectilignes (§. 88.)

REMARQUE III.

§. 100. Comme les objets terrestres, sur lesquels on peut remarquer quelque réfraction, sont fort peu élevés, & que la distance, dans laquelle on peut encore les voir, n'est tout au plus que de deux ou trois degrés de la surface de la terre; il s'en suit que la partie de la trajectoire pour les objets terrestres est très petite & que sans aucune erreur sensible on pourra lui substituer un arc de cercle, dont le rayon est le rayon de courbure de la trajectoire, cet arc de cercle étant celui, qui approche le plus de tous de la véritable courbe. Mais pour faire voir, que cette hypothèse doit être nécessairement tolérable, il faut considérer que la courbure de l'arc, qu'on substitue, égale toujours la réfraction, laquelle n'étant pour les objets terrestres les plus éloignés, que tout au plus de 8 ou 10-minutes, il est évident, que la déviation ne sauroit être plus grande, que celle du cercle osculateur de la courbe à une distance de 8 ou 10-minutes du point d'atouchement, de sorte que si cette déviation devoit être sensible, il faudroit que la courbure de la trajectoire crût ou décrût avec une vitesse extrême, ce qui est contre toute expérience. Ainsi nous sommes en droit de supposer que la route de la lumière dans deux couches assez voisines, est circulaire.

REMARQUE IV.

Fig. 5.

§. 101. Cette hypothese etant une fois etablie comme infiniment approchante de la vérité, nous allons l'appliquer aux différens cas, qui dépendent des réfractons terrestres. Il s'agit, avant toutes choses, de déterminer la droite AC, que nous appellerons le *rayon horizontal*, lequel etant trouvé, tous les autres AE, AF le seront aussi. Car ils sont comme les secantes des elevations apparentes des objets au-dessus de l'horison. Employons premierement les observations, qu'on peut faire sur les objets terrestres, & après nous nous servirons aussi des réfractons astronomiques, pour le déterminer.

PROBLÈME VII.

Fig. 6.

§. 102. Soient A, B deux endroits, dont on connoit BD ou l'elevation de l'un au-dessus de l'autre, & les angles GAH, FBC, que les tangentes de la route de la lumiere à ses deux extrémités forment avec les droites CA, CB tirées du centre de la Terre C, trouver le rayon horizontal, la réfraction aux deux endroits, & leur distance.

SOLUTION.

La route de la lumiere pouvant être regardée comme circulaire (§. 100.) le Problème se réduit au suivant, qui est purement géométrique.

Deux cercles AD, HB étant donnés de position & concentriques, trouver un troisième, qui les coupe sous des angles donnés.

Que ce cercle soit AB, son centre R, tirez les rayons AR, BR, & du centre C menez-y des perpendiculaires CP, CQ. Ce qui étant fait soit

$$\begin{aligned} \text{l'angle GAH} &= \gamma & \text{le rayon AC} &= r \\ \text{FBC} &= \omega & \text{CR} &= r \\ & & \text{AR} &= x = \text{BR.} \end{aligned}$$

d'où on aura

$$\begin{aligned} \text{CP} &= \text{cof. } \gamma. & \text{CQ} &= r. \text{cof. } \omega \\ \text{AP} &= \text{sin. } \gamma. & \text{BQ} &= r. \text{sin. } \omega \\ \text{PR} &= x - \text{sin. } \gamma. & \text{QR} &= x - r. \text{sin. } \omega. \end{aligned}$$

Joignez les centres C, R par la droite CR qui sera l'hypothénuse des deux triangles rectangles CPR, CQR, ce qui donne

$$\text{CP}^2 + \text{PR}^2 = \text{CQ}^2 + \text{QR}^2.$$

& en substituant les valeurs trouvées

$$\text{cof. } \gamma^2 + (x - \text{sin. } \gamma)^2 = r^2. \text{cof. } \omega^2 + (x - r. \text{sin. } \omega)^2$$

d'où l'on obtient

$$x = \frac{(r + 1). (r - 1)}{2(r. \text{sin. } \omega - \text{sin. } \gamma)}$$

E 3

Cette

Cette equation détermine le rayon AR. Prolongez la verticale AC & abaissez-y la perpendiculaire RE, & AE fera le rayon horizontal (§. 38. 39.), qui soit = R, & on aura

$$R = x. \sin. \gamma = \frac{(r r - 1) \sin. \gamma}{2(r \sin. \omega - \sin. \gamma)}$$

De-là on trouvera de plus

$$CE = R - 1$$

$$ER = x. \cos. \gamma$$

$$CR = \sqrt{x x - 2 x \sin. \gamma + 1}$$

$$\cos. ECR = EC : ER$$

$$\sin. CBR = x. \cos. \omega : \sqrt{x^2 - 2 x \sin. \gamma + 1}$$

d'où enfin on aura l'angle ACB, qui donne la distance horizontale des deux endroits, & de-là l'angle AgF, qui est le double de chaque refraction terrestre.

EXEMPLE I.

§. 103. Mr. Cassini a observé au pied du clochet à Massanne la dépression apparente de la surface de la mer, & la trouva de 50', 20". & la hauteur de la Tour au-dessus du niveau de la mer de 408½ toises. D'où il a été

$$\begin{array}{ll} \gamma = 90^\circ & AC = 1 \\ \omega = 89, 9', 40'' & CB = 1,000125 = r \end{array}$$

Ces valeurs étant substituées dans la formule

$$x = \frac{r r - 1}{2(r \sin. \omega - \sin. \gamma)}$$

on trouve

$$x = 7,06 = R.$$

De sorte que le rayon horifontal etoit sept-fois plus grand que celui de la terre.

EXEMPLE II.

§. 104. Dans une autre observation, que Mrs. les Académiciens de Paris ont faite, A etoit la Tour à Aigues-mortes, B le sommet de la montagne les Houpies, & l'angle

$$\gamma = 89^{\circ}, 15', 19''$$

$$\alpha = 89, 19, 40.$$

$$ACB = 0, 35, 36.$$

donc

$$FgA = 0, 4, 57 = z.$$

Or dans cet exemple tous les angles sont donnés, & le rayon AB etant fort horifontal, on trouvera

$$x = R = \frac{ACB}{FGA} = 7,02.$$

Ce qui ne differe que fort peu de la valeur trouvée du premier exemple, & fait voir que la constitution de l'air etoit assez egale dans l'un & l'autre cas.

REMARQUE.

§. 105. On voit bien, qu'il y a encore plusieurs autres manieres de trouver le rayon horizontal, suivant les différentes combinaisons des parties, qui peuvent déterminer la position & le diamètre de l'arc circulaire AB. Mais comme on n'est pas toujours à même de faire les observations requises, il fera peut-être plus utile de se servir des réfractions astronomiques, d'autant plus qu'on peut les observer beaucoup plus commodément, que celles qui ont lieu pour les objets terrestres.

PROBLÈME VIII.

§. 106. Trouver le rayon horizontal moyennant les réfractions astronomiques.

SOLUTION.

Fig. 7.

Soit AH un rayon de lumière, continué en h. AG un autre infiniment proche du premier, & pareillement continué en g. L'angle hAC = γ , l'angle gAC = $\gamma - d\gamma$, la réfraction astronomique pour le rayon AH = z , celle pour le rayon AG = $z - dz$. Du centre de la terre C tirez la droite Cg en sorte que l'angle gCA soit = $d\gamma$. Cette droite coupera le rayon Ag sous le même angle, que la verticale AC coupe le rayon AH, & un spectateur, qui se trouveroit en g verroit un astre par le rayon gAG également distant de son Zénith, que le spectateur en A voit un autre par le rayon AH du sien. Soit le rayon de courbure AE = gE, & la réfraction de la petite partie Ag de la trajectoire sera = $Ag : AE$, donc

donc la refraction astronomique de l'astre G. vu en g sera $= z - dz + Ag : AE$. Mais l'elevation apparente des deux astres aux deux endroits respectifs etant la même, & les deux rayons g G, h H n'étant éloignés l'un de l'autre qu'infinitement peu, il est clair que les refractions respectives aux deux endroits seront en raison de la force réfringente en A & g, faisant donc celle en A $= 1$, celle en g $= 1 + dv$. on aura

$$(z - dz + \frac{Ag}{AE}) : z = (1 + dv) : 1.$$

donc

$$z dv + dz = \frac{Ag}{AE}$$

Mais

$$AE = AD. \text{ cofec. } \gamma,$$

&

$$AK = d\gamma + \frac{Ag}{AE}$$

donc

$$Ag = d\gamma. \text{ cofec. } \gamma$$

de là en substituant

$$z dv + dz = d\gamma : AD.$$

or la différence Kg etant infiniment petite, dv sera proportionelle à Kg, faisant donc

$$dv = m. Kg, \text{ on aura, à cause de } Kg = d\gamma. \text{ cot. } \gamma$$

$$d\gamma. m z \text{ cot. } \gamma + dz = d\gamma : R$$

d'où l'on tire

$$R = \frac{d\gamma}{m z d\gamma. \text{ cot. } \gamma + dz}$$

*Le calcul suivant
à corriger.
(V. Astron. Jahrb.
1779, p. 184)*

Or pour les refractions horizontales, comme les plus propres à ce sujet, on a $\gamma = 90^\circ$, $\cot. \gamma = 0$, & par conséquent

$$R = d\gamma : dz$$

Fig. 8.

Construisez une courbe BM telle, que les abscissés AP représentent les hauteurs apparentes des astres, & les ordonnées PM les refractions répondantes. Tirez la touchante BT au point B, & le rayon horizontal sera à celui de la terre comme AT à AB. D'où l'on voit, que quelques refractions horizontales étant données, on pourra construire le commencement de la courbe BM, qui suffira, pour trouver la position de la tangente BT. Mais les refractions, dont on se servira, doivent être bien exactes.

AUTREMENT.

Fig. 9.

§. 107. Soit DB un cercle dont le centre est C. Prenez sur la verticale BC un point A, tel qu'en faisant l'angle MAB = γ , & abaissant la normale MQ sur CB, elle soit en raison de la refraction, qui répond à l'angle γ . ce qui pourra se faire avec une exactitude suffisante (§. 99.) d'autant qu'il ne faut accommoder le cas qu'aux refractions les plus horizontales. Erigez en A la perpendiculaire AD, qui sera en raison de la refraction horizontale, de sorte que $AD = nz$. tirez une parallèle PR infiniment proche de AD, & joignez A & P par la droite AP, de même que les points C, P, D par les droites PC, DC. Enfin abaissez Pp sur AD perpendiculairement, & faites l'angle PAD = $d\gamma$, & vous aurez

$$\begin{aligned} PR &= n(z - dx) \\ pD &= ndz \\ CA : AD &= pD : Pp \end{aligned}$$

donc

donc

$$Pp = \frac{n^2 z dz}{CA}$$

Mais

$$Pp = AP \cdot dy = n z dy$$

donc

$$n z dy = n^2 z dz : CA$$

& partant

$$dy : dz = n : AC$$

Mais par la Solution précédente $dy : dz = R$
donc

$$R = n : AC$$

Or n & AC sont donnés, & partant R aussi.

THÉORÈME XXVIII.

5. 108. La refraction terrestre est à l'angle, que fait l'objet avec le lieu de l'observation au centre de la terre, comme le rayon de la terre au double rayon horizontal.

DÉMONSTRATION.

Soit A l'endroit de l'observation, B l'objet, AB la trajectoire de la lumière, ou un arc de cercle, qu'on peut lui substituer, $AR = BR$ son rayon, AE le rayon horizontal, & aiant tiré les tangentes AG , BF , qui se coupent en g , l'angle $FgA = ARB$ sera le double de la refraction terrestre en A ou B . Donc cette refraction sera $= \frac{1}{2} ARB = \frac{1}{2} AB : AR$. Mais faisant l'angle de la distance apparente de l'objet du Zénith $= \gamma = GAH$,
on

Fig. 6.

on aura $AR = AE \cdot \text{cofec. } \gamma = R \cdot \text{cofec. } \gamma$, & la refraction $\zeta = \frac{1}{2} AB : R \cdot \text{cofec. } \gamma$. Mais la distance AB étant fort petite, il sera à très peu près $AB = AD \cdot \text{cofec. } \gamma$. donc en substituant cette valeur, on trouvera $\zeta = \frac{1}{2} AD : R$, & partant

$$\zeta : ACD = 1 : 2 R.$$

COROLLAIRE.

§. 109. Ainsi le rayon horizontal étant $= \gamma$, la refraction terrestre sera la quatorzième partie de l'angle ACD de la distance horizontale de l'objet B .

THÉORÈME XXIX.

§. 110. Tous les Objets, qui se trouvent sur une même verticale DG étant vus d'un même endroit A , paroissent plus élevés d'un même angle moyennant la refraction.

DÉMONSTRATION.

Car l'angle de refraction dépend uniquement de l'angle ACD , auquel elle est proportionnelle (§. 108.) Or cet angle est le même pour tous les objets, qui sont sur la droite verticale DG . Donc &c.

THÉORÈME XXX.

§. 111. La grandeur apparente des objets, qui se trouvent sur une même verticale BD , & qui sont vus d'un même endroit A par des rayons visuels brisés, est la même, qu'elle seroit sans la refraction.

DEMONSTRATION.

La grandeur apparente est la différence entre les elevations apparentes. Or la refraction augmentant ces elevations d'un même angle (§. 110.) il est evident, que leur différence fera toujours la même. Donc &c.

THÉORÈME XXXI.

§. 112. La refraction terrestre croît en même raison que la distance horizontale.

DEMONSTRATION.

Elle n'est qu'une application du Théorème XXVIII.

REMARQUE I.

§. 113. Il faut bien observer, que c'est l'angle de refraction & non la distance GB , pour laquelle l'objet B paroît plus élevé. Car cette distance croît comme le quarré de la distance horizontale multiplié par la secante de l'elevation apparente au-dessus de l'horizon.

Rz.

REMARQUE II.

§. 114. La refraction terrestre n'étant qu'environ la quatorzième partie de la courbure de la terre, ou de l'angle ACB, il est évident, qu'on ne sauroit faire abstraction de cette courbure lorsqu'on veut déterminer les refractions terrestres & principalement les horizontales.

PROBLÈME IX.

§. 115. La hauteur d'un objet par dessus la surface de la terre ou de la mer étant donnée, trouver la distance, à laquelle on peut encore le voir.

SOLUTION.

Fig. 10. Soit AC le demi diamètre de la terre, AM sa surface, Mo la hauteur de l'objet, AE le rayon horizontal, qui sera de même le rayon de la trajectoire oA qui touche la surface de la terre en A. Posant donc AC = 1, oE = R, oM = y, & considérant que les angles ACM, AEo, sont fort petits; on pourra faire l'analogie suivante: Ayant tiré la tangente AO, & prolongé CM en O, on aura à très peu de près

$$Oo : OM = AC : AE$$

d'où l'on tire

$$y : OM = (R-1) : R$$

$$OM = Ry : (R-1)$$

CO

$$CO = 1 + \frac{R\gamma}{R-1} = \text{sec. ACO.}$$

(Ce qui donne l'angle ACO, & l'arc AM sera
 $= \sqrt{\frac{2R\gamma}{R-1}}$ exprimé en parties, dont le rayon
 de la terre est l'unité.

COROLLAIRE.

§. 116. La distance, à laquelle on pourroit voir
 un objet sans la refraction est $= \sqrt{2\gamma}$, & par consé-
 séquent à la distance trouvée $\sqrt{\frac{2R\gamma}{R-1}}$ comme

$\sqrt{(R-1)}$ à \sqrt{R} , ou comme $\sqrt{(1 - \frac{1}{R})}$ à 1;

ce qui donne à tres peu près le rapport de $(2R-1)$
 à $2R$. Ainsi le rayon horizontal étant $= 7$, ce
 rapport sera $= 13 : 14$; de sorte que la refraction
 augmentera la distance, à laquelle un objet peut
 encore être vu, de la treizieme partie.

THÉORÈME XXXII.

§. 117. L'état de l'atmosphère restant le même, la
 distance, à laquelle un objet peut encore être vu,
 croît en raison de la racine quarrée de la hauteur
 de l'objet au-dessus de la surface de la terre ou de
 la mer.

DÉMONSTRATION.

Car cette distance étant $= \sqrt{\left(\frac{2Ry}{R-1}\right)}$ (§. 115.) elle ne dépend que du rayon horizontal, & de la hauteur de l'objet. Mais dans l'hypothèse du Théorème R est constant, donc la distance sera comme \sqrt{y} , & partant en raison de la racine quarrée de la hauteur de l'objet au-dessus de l'horizon.

PROBLÈME X.

§. 118. L'elevation d'un endroit au-dessus de l'horizon & le rayon horizontal étant donnés, trouver la refraction, l'abaissement de l'horizon véritable au-dessous de l'apparent, & la distance de son extrémité apparente.

SOLUTION.

Soit AM l'horizon véritable, o un endroit élevé, oM sa hauteur. oA le rayon de lumière, qui touche l'horizon en A, A sera son extrémité apparente, AM la distance horizontale. Soit AE le rayon horizontal, & ayant joint les points E, o, par la droite Eo, faites comme ci-dessus, CA = 1, AE = R, Mo = y, & vous aurez (§. 115.)

$$AM = \sqrt{\frac{2Ry}{R-1}} = ACM$$

Or la refraction terrestre ζ est la $\frac{1}{2R}$ tième partie de l'angle ACM, (§. 108.) donc

$$\zeta = \sqrt{\frac{y}{2R(R-1)}}$$

De plus l'abaiffement apparent de l'horifon est égal à l'angle CoE, mais les angles CEo, CoE étant fort petits, on aura

$$CoE : oCA = CE : Eo = (R-1) : R$$

d'où l'on tire

$$CoE = \frac{oCA.(R-1)}{R}$$

par conséquent l'abaiffement apparent de l'horifon marin est la $\frac{R-1}{R}$ tième partie de la distance MCA de son extrémité visible. Mais cette distance étant $= \sqrt{\frac{2yR}{R-1}}$, l'abaiffement de l'horifon sera $= \sqrt{\frac{2y(R-1)}{R}}$

COROLLAIRE I.

§. 119. Ainsi l'Etat de l'air restant le même, la distance de l'extrémité de l'horifon, son abaiffement, & sa refraction, seront dans un rapport constant de la racine quarrée de la hauteur de l'objet au-dessus de l'horifon. Et si le raïon horizontal est $= 7$, ces trois quantités seront comme les nombres 14, 12, 1. ou en général comme $2R$, $(2R-2)$, 1.

F

Rx.

REMARQUE.

§. 120. Mr. J. Cassini, a observé l'abaissement apparent de l'horison de la mer sur diverses hauteurs, qu'il avoit mesurées géométriquement. Ces observations se trouvent dans son *Traité sur la Grandeur & la Figure de la Terre P. I. Cb. 10.* Nous verrons ci-dessous, que la plupart de ces hauteurs souffrent une correction considerable parcequ'elles sont calculées sans la refraction. Voici donc les hauteurs corrigées, & l'abaissement observé.

	<i>y</i>	CoE
à Collioure.	69 pieds.	0° : 8' : 35"
à Perpignan.	216 .	0 : 15 : 0
à St. Elme.	609 .	0 : 26 : 20
à Tautavel.	1486 .	0 : 38 : 0
à Maffanne.	2450 .	0 : 50 : 20

Or prenant les racines quarrées des hauteurs *y*, on trouvera qu'elles représenteront assez exactement l'abaissement répondant exprimé en minutes, & qu'il ne faudra que les augmenter environ d'une soixantième partie, comme je l'ai trouvé par la formule du Problème IX. C'est ainsi qu'on aura

$\sqrt{69} = 8 : 18$	au lieu de.	8' : 35"
$\sqrt{216} = 14 : 43$.	15 : 0
$\sqrt{609} = 24 : 36$.	26 : 20
$\sqrt{1486} = 38 : 33$.	38 : 0
$\sqrt{2450} = 49 : 30$.	50 : 20

Toutes ces observations ont été faites aux mois de Janvier, de Fevrier & de Mars, & par conséquent dans la saison de l'année où l'air est sujet à de tres grandes variations. Néanmoins le calcul, dans

dans lequel on suppose l'état de l'atmosphère uniforme pour toutes, ne diffère des observations que tout au plus d'une minute. Ainsi nous voyons, que par tout, où la différence d'une minute ne feroit être négligée, il sera toujours nécessaire de déterminer le rayon horizontal exactement & par une observation immédiate, comme nous l'avons enseigné aux Problèmes VII & VIII. Ce qui arrivera, lorsque de la hauteur d'un endroit y , on veut trouver une des trois quantités, que nous avons déterminées au Probl. X. Mais si par contre on cherche la hauteur d'une montagne par sa distance & son elevation apparente, il suffira de supposer le rayon horizontal $= 7$; particulièrement si la distance donnée n'est pas extrêmement grande, p. ex. au-dessous de deux degrés de la terre,

(2-2) : : = 2 : 2 = 2 : 2 = 2 : 2

THÉORÈME XXXIII.

§. 121. Dans le Nivellement l'abaissement OO_1 d'un objet, que l'on voit en A sur la ligne horizontale apparente AO , est à la distance OM de cet objet de la surface ou de l'horizon véritable AM , comme le rayon de la terre, à la différence entre ce rayon & le rayon horizontal.

et la distance de l'horizon véritable

est à la distance de l'horizon véritable

est à la distance de l'horizon véritable

est à la distance de l'horizon véritable

est à la distance de l'horizon véritable

est à la distance de l'horizon véritable

est à la distance de l'horizon véritable

est à la distance de l'horizon véritable

est à la distance de l'horizon véritable

est à la distance de l'horizon véritable

est à la distance de l'horizon véritable

est à la distance de l'horizon véritable

est à la distance de l'horizon véritable

est à la distance de l'horizon véritable

est à la distance de l'horizon véritable

est à la distance de l'horizon véritable

est à la distance de l'horizon véritable

est à la distance de l'horizon véritable

est à la distance de l'horizon véritable

DÉMONSTRATION.

Par le Problème IX. (§. 115.) nous avons

$$OM = \frac{Ry}{R-1}$$

or

$$oM = y$$

donc

$$oO = \frac{Ry}{R-1} - y = \frac{y}{R-1}$$

& partant

$$oO : oM = \frac{y}{R-1} : y = 1 : (R-1)$$

COROLLAIRE I.

§. 122. Si donc le rayon horizontal est = r , on trouvera, oM six-fois plus grande que oO , de sorte que la Refraction eleve les objets vus sur l'horizon apparent AO , de la sixieme, ou en général de la $\frac{1}{R-1}$ tieme partie de leur distance de la surface ou de l'horizon véritable.

COROLLAIRE II.

§. 123. Comme dans les tables du nivellement, on exprime ordinairement toute la hauteur OM , il est evident, qu'il faut la diminuer d'une septieme partie, si le rayon horizontal est $= 7$, pour avoir la véritable hauteur Mo , puisque l'objet, qu'on croit voir en O , suivant la droite horizontale, se trouve d'une septieme, ou en général, d'une $\frac{1}{K}$ tieme partie de MO plus bas en o .

REMARQUE.

§. 124. En supposant le rayon horizontal $= 7$, j'ai calculé la table suivante, dont la premiere Colonne exprime la hauteur oO , de laquelle l'objet paroît plus élevé, & la seconde donne la distance AO ou AM , qui lui répond. En prenant quelque milieu entre le diametre de l'Equateur & l'axe de la terre, j'ai supposé que la distance AM étant de 10000 toises, la hauteur entiere OM soit de 15,311 toises, & par conséquent oO de $\frac{15,311}{7}$

$= 2,1873$ toises, d'où les nombres de la table se deduisent, puisque oO croit ou décroît comme le carré de la distance AM . (§. 118.) L'usage de cette table peut s'appliquer à tout ce que nous avons démontré sur la fig. X. & à ce que nous en dirons encore. C'est ainsi qu'ayant trouvé oO , pour une distance quelconque AM , on aura oM en multipliant oO par 6, & en la multipliant par 7 on aura toute la hauteur OM , qui est indépendante

des refractions, & dont on pourra ensuite toujours deduire oO , ou oM pour un autre raion horifontal plus grand ou plus petit que celui dont nous nous sommes servis pour la construction de la table.

Il sera facile de trouver les hauteurs oO pour des distances plus grandes que celles, auxquelles la table s'étend, en considerant qu'à une distance double, la hauteur oO , est quatre-fois plus grande, & qu'en général il est $oO \propto AM^2$.

Table des toises, dont il faut diminuer la hauteur
des endroits vus dans la ligne horizontale. Fig. X.

o O	AM	o O	AM	o O	AM.
1	5761	34	39427	67	55349
2	9582	35	40002	68	55758
3	11711	36	40570	69	56166
4	13523	37	41130	70	56571
5	15119	38	41680	71	56974
6	16502	39	42226	72	57374
7	17889	40	42764	73	57770
8	19124	41	43296	74	58165
9	20285	42	43820	75	58558
10	21388	43	44338	76	58940
11	22425	44	44851	77	59313
12	23422	45	45357	78	59719
13	24379	46	45850	79	60098
14	25300	47	46334	80	60477
15	26187	48	46845	81	60855
16	27048	49	47331	82	61210
17	27879	50	47812	83	61600
18	28687	51	48287	84	61970
19	29470	52	48758	85	62318
20	30238	53	49224	86	62705
21	30985	54	49687	87	63079
22	31735	55	50144	88	63410
23	32427	56	50599	89	63788
24	33125	57	51049	90	64146
25	33808	58	51495	91	64502
26	34478	59	51937	92	64854
27	35134	60	52375	93	65206
28	35778	61	52810	94	65556
29	36412	62	53240	95	65903
30	37035	63	53668	96	66250
31	37647	64	54092	97	66595
32	38249	65	54514	98	66937
33	38841	66	54931	99	67277
34	39427	67	55344	100	67615

REMARQUE II.

§. 125. Puisque les objets terrestres assez éloignés pour que la refraction soit sensible, paroissent ordinairement fort peu élevés au-dessus de l'horison, de sorte que l'angle de leur hauteur apparente n'est que de quelques degrés, on peut supposer que la refraction les eleve de la même quantité de toises, qu'elle eleve l'objet o, lorsqu'il est à la même distance. Ainsi si l'on calcule leur hauteur sans retrancher premierement de l'angle de leur elevation apparente l'angle de la refraction, il faudra diminuer leur hauteur trouvée du nombre de toises, qu'on trouvera répondre dans la table précédente à la distance, à laquelle ils ont été observés. Nous avons déjà remarqué ci-dessus (§. 120.) que les hauteurs de presque toutes les montagnes mesurées en France de même que dans d'autres parties du monde ont besoin de cette correction, & nous en donnerons des exemples à la fin de ce traité.

PROBLÈME XI.

§. 126. On observe le moment, auquel le Soleil couchant cesse d'éclairer une nuée verticalement au-dessus de l'endroit de l'observation, trouver la hauteur de cette nuée.

SOLU-

SOLUTION.

Du moment donné cherchez la profondeur du Soleil au-dessous de l'horison, & soustraitez-en la refraction astronomique horisontale, & vous aurez l'angle ACM , & partant l'arc AM , lequel étant converti en toises, vous donnera dans la table précédente la hauteur oO , & partant aussi la hauteur oM de la nuée au-dessus de l'horison AM .

REMARQUE.

§. 127. Ce Problème ne sauroit s'appliquer avec quelque exactitude, qu'aux Cas, où les rayons du Soleil couchant touchent la surface de la mer, ou une plaine horisontale & peu élevée par-dessus le niveau de la mer. Car si un endroit plus élevé jettoit son ombre sur la nuée, on ne trouveroit que tout au plus la hauteur de la nuée au-dessus de cet endroit, & même fort inexactement, puisque la refraction astronomique sera différente de l'horisontale.

Ainsi ce Problème étant de peu d'usage, je ne m'arrêterai pas à l'appliquer aux cas, où la nuée n'est point verticale, d'autant qu'on a d'autres moyens de trouver leur hauteur.

PROBLÈME XII.

§. 128. Une table des refractions astronomiques pour un endroit étant donnée. trouver une autre pour un endroit plus ou moins élevé, mais dont l'elevation soit donnée.

SOLUTION.

Fig. 6. Soit l'un des endroits A, l'autre plus élevé H. soit AB un rayon de lumière, que l'on conçoive continué au-delà de B jusqu'à l'extrémité de l'atmosphère. Faisons comme dans le Problème VII.

$$\begin{aligned} \text{HAG} &= \gamma. \\ \text{FBC} &= \alpha. \\ \text{AC} &= \text{r.} \\ \text{AE} &= \text{R.} \\ \text{AH} &= \text{y.} \end{aligned}$$

La refraction astronomique en A $= z$, celle en B $= \phi$, il est évident que l'angle AgF sera la différence de ces refractions, & partant $= z - \phi$.

Or cet angle AgF est double de la refraction terrestre en A & B, & par conséquent il sera

la $\frac{1}{K}$ tième partie de l'angle ACB, d'où l'on aura

$$\phi = z - \frac{\text{ACB}}{\text{R}}$$

Or

Or la table des refractions pour l'endroit A etant donnée, on en trouvera le raion horifontal R, qui lui convient par le Probl. VIII. (§. 106.) Ainfi il ne s'agit que de chercher l'angle ACB répondant à chaque angle γ . ce qu'on fera le plus commodement de la maniere qui fuit.

1°. Les droites R & γ etant données, faites $CG = 1 + \frac{R\gamma}{R-1}$, qui fera la sécante de l'angle ACB lorsque γ est $= 90^\circ$. (§. 115.) d'où vous aurez l'angle ACB, & partant $GgB = FgA = \frac{ACB}{R}$, & $FBC = 90^\circ - \frac{R-1}{R} \cdot ACB = \omega$.

2°. Aiant trouvé l'angle ω répondant à l'angle $\gamma = 90^\circ$, cherchez le rapport entre les sinus de ces deux angles, parceque ce rapport etant constant pour tous les angles γ , vous donnera les angles, ω , qui leur répondent.

3°. Or puisque

$$CAg + AgB + gBC + BCA = 360^\circ,$$

&

$$\begin{aligned} CAg &= 180^\circ - \gamma \\ gBC &= \omega \\ AgB &= 180 - AgF \\ ACB &= R \cdot AgF \end{aligned}$$

en substituant ces valeurs, on aura

$$\gamma - \omega = (R - 1) \cdot AgF.$$

& par-

& partant

$$AgF = \frac{\gamma - \alpha}{R - 1}$$

done

$$\varphi = z - \frac{\gamma - \alpha}{R - 1}$$

Ainsi de chaque refraction z répondante à un angle γ en A, vous en trouverez une autre φ , qui répondra à l'angle α en B.

REMARQUE.

§. 129. En suivant cette méthode, & supposant le rayon horizontal $= \gamma$, j'ai trouvé que si l'endroit B est de 1000 toises plus élevé, que l'endroit A, il faut diminuer les refractions répondantes aux mêmes distances du Zénith environ d'une sixième partie.

PROBLÈME XIII.

Fig. 11. §. 130. Un rayon entrant dans l'atmosphère en B suivant la direction LB parallèle à l'axe DC, & touchant la surface de la terre en A, trouver le point du concours avec l'axe en F.

SOLUTION.

Ayant prolongé la droite LB, menez-y la perpendiculaire Ct, faites l'angle tCA = ACT égal à la refraction altronomique horifontale, CT = Ct, tirez TF perpendiculaire à CT, qui déterminera le point F. Or il est evident, que les droites Bt, TE, touchent la trajectoire BAC aux deux extrémités en B & E, donc le rapport entre les perpendiculaires Ct ou CT & CA, est le même que le rapport entre les sinus de l'angle d'inclinaifon & de l'angle brifé de la lumiere, qui entre du vuide dans l'air naturel (§. 70.) & par conséquent il est donné (§. 90.) de même que la refraction horifontale. Mais les droites LB, CD étant paralleles, & Ct perpendiculaire, l'angle tCF sera droit. D'où l'on trouve l'angle CFT égal à l'angle tCT, & par conséquent double de la refraction horifontale. Faisant donc

$$CA = 1, CT = v, tCA = z,$$

on trouvera

$$CF = v. \text{ coféc. } 2z.$$

COROLLAIRE.

§. 131. Si la direction de la lumière n'est point parallèle à l'axe, mais qu'elle fait un angle $DCd = \epsilon$, le point du concours sera en f .

Or l'angle TCf sera $= 2z + \epsilon$, donc $CF = v. \text{coséc.} (2z + \epsilon)$.

E X E M P L E.

§. 132. Que la droite Cd joigne les centres du Soleil & de la Terre, le rayon LB soit supposé émanant du bord du Soleil, il est évident que Cf sera la longueur de l'ombre de la terre, & l'angle DCd sera le demi-diamètre apparent du Soleil.

Faisons $\epsilon = 16'$. $z = 33'$. $v = 1,000,3054$, & nous aurons

$$CF = v. \text{coséc.} 82' = 41,94$$

de sorte que dans ce Cas la longueur de l'ombre de la terre sera d'environ 42 de ses demi-diamètres, ce qui fait à peu près les deux tiers de la plus grande distance de la Lune. Du reste il est clair que cette longueur varie en raison directe de la perpendiculaire $CT = v$, & en raison reciproque de la somme de la double refraction horizontale & du demi-diamètre apparent du Soleil.

REMARQUE I.

§. 133. Ce Problème & son Corollaire sont indépendans d'aucune hypothese particuliere, & les donnees qu'ils exigent se trouvent immédiatement des observations. On l'appliqueroit aussi facilement aux Crepuscules, s'il étoit démontré qu'ils ne dépendent que d'une simple reflexion de la lumiere, & que celle que les particules qui sont à l'extrémité de l'atmosphere reflechissent, est encore assez forte, pour que nous puissions nous en appercevoir, des qu'elle paroît à l'horison. Car en supposant la dépression du Soleil au commencement du crepuscule de 19 degrés, on trouve que ces 19 degrés egalent la somme de la triple refraction horisontale & du double de l'angle BCt. Ainsi faisant la refraction horisontale = 33', l'angle BCt sera = $\frac{19^\circ - 1^\circ, 39'}{2} = 8^\circ, 40', 30''$. Donc la hauteur de l'air sera = v . séc. (8°, 40', 30"). Soit v comme ci-dessus = 1,0003054, on aura

$$CB = 1,01158$$

de sorte que la hauteur de l'air, qui reflechit encore la lumiere seroit la $\frac{1}{86}$ me partie du demi-diametre de la terre.

REMARQUE II.

§. 134. On peut encore se servir de la position du point F pour trouver les réfractions, en invertant le Problème. Pour cet effet on envisage l'atmosphère comme un milieu caustique, dont le foyer est en F. Il n'est pas besoin de considérer toute la courbure BAE, mais on n'en prendra que la moitié, ce qui éloignera d'avantage le foyer. Et comme les rayons, qui tombent dans l'atmosphère à différentes distances de l'axe DC, ont aussi des foyers inégalement éloignés du centre C, il sera facile d'en déterminer autant que l'on voudra moyennant les réfractions données, & on trouvera les foyers intermédiaires, en considérant que ceux des rayons qui sont très proches de l'axe DC s'approchent du centre C comme les cosinus des angles γ , ou comme les sinus des angles de l'incidence de la lumière sur la surface A. &c.

PROBLÈME XIV.

§. 135. *L'angle de l'elevation apparente d'une montagne & sa distance horizontale étant donnés, trouver sa hauteur.*

SOLUTION.

Soit A l'endroit de l'observation, B le sommet *Fig. 6.*
de la montagne, on connoit l'angle HAG, qui
est la distance apparente du Zenith, & l'angle ACB
de son éloignement horizontal, & le rayon horizon-
tal étant supposé = 7, on fera l'analogie sui-
vante

$$BC : \sin. (CAG - \frac{1}{2} ACB) = AC : \sin. (FBC - \frac{1}{2} ACB)$$

ce qui donne

$$BC = \frac{AC \sin. (CAG - \frac{1}{2} ACB)}{\sin. (FBC - \frac{1}{2} ACB)}$$

AUTREMENT.

En cherchant la distance CG, qui sera =

$$AC \frac{\sin. HAG}{\sin. (HAG - ACB)}, \text{ il faudra en}$$

soustraire la distance GB, dont la montagne pa-
roit plus élevée, que vous trouverez

$$= \frac{1}{2} (\sec. ACB - AC) \coséc. HAG.$$

(4. 113. 115.)

REMARQUE I.

§. 136. La distance horizontale étant exprimée en toises, la quantité $\frac{1}{2}$ (sec. ACB — AC) se trouvera dans la table, que nous avons donnée ci-dessus. Et puisque l'angle HAG ne diffère la plus part que d'environ un ou deux degrés d'un angle droit, sa cosécante pourra être supposée ≈ 1 , de sorte que la distance GB pourra être posée égale à $\frac{1}{2}$ (sec. ACB — AC), & se trouvera immédiatement de la Table. (§. 124.)

REMARQUE II.

§. 137. Moyennant la seconde Solution on pourra corriger les hauteurs des montagnes, qu'on a mesurées jusqu'ici sans avoir égard à la refraction, & il ne faudra que savoir la distance, à laquelle elles ont été mesurées.

Je vais maintenant donner les exemples, en corrigeant la plupart de celles, qui se trouvent dans le livre de Mr. Cassini cité ci-dessus. (§. 120.) Il importera de savoir leur hauteur plus exactement, parceque plusieurs observations, qu'on y a faites sur l'abaissement de l'horison marin & sur les hauteurs Barométriques, en dépendent, & on verra pourquoi les hypothèses sur ces hauteurs du Barometre n'ont jamais voulu s'accorder avec les expériences, vu que diverses de ces montagnes ont été supposées de 40 jusqu'à 50. toises trop hautes, & d'autres presque d'autant trop petites. Si donc les hauteurs Barométriques n'étoient pas même sujettes à la moindre irrégularité, il au-
roit

roit toujours été impossible de les faire quadrer aux hauteurs des endroits déterminées avec si peu d'exactitude.

E X E M P L E S.

§. 138. Je nommerai la distance horizontale de la montagne de l'endroit de l'observation D, la hauteur de la montagne au-dessus du niveau de cet endroit; telle que Mr. Cassini l'a trouvée sans la refraction A, la différence $GB = R$, & la hauteur véritable $H = AH$, de sorte que

$$A - R = H.$$

Or la distance D étant donnée; on la cherchera dans la seconde colonne de la table du §. 124: & on trouvera dans la première colonne la différence R.

14120	=	A
100	=	R
1200	=	H
14170	=	D
1424	=	



I^{re}. Observation au signe Septentrional.

Le Canigou.	A	=	1441,0 toises
D = 28767.	R	=	18,0
			<hr/>
Le Canigou au-dessus de la mer	H	=	1423,0
			<hr/>
Le Mouffet.	A	=	1253,0
D = 35145.	R	=	27,0
			<hr/>
			H = 1226,0
			<hr/>

II. Observation à Collioure.

Matelotte.	D = 2228	H =	336,4
Malfanne	D = 3046	H =	408,3
			<hr/>
St. Elme.	D = 675	H =	101,5

III. Observation à St. Elme.

Le Canigou.	A	=	1442,0
D = 26912.	R	=	16,0
			<hr/>
			H = 1426,0
Mais de la première observation		=	1423,0
			<hr/>
Donc la Hauteur moyenne.		=	1424,5
			<hr/>

Le Puy de Bugarac.	A	=	650,5
D = 35936.	R	=	28,3
	H	=	<u>622,2</u>
La Matelotte. D = 1800	H	=	334,5
Dans la 2 ^e . Observation	H	=	<u>336,4</u>
Hauteur moyenne de la Matelotte.			<u><u>335,4</u></u>

IV. Observation à Perpignan sur la Tour de St. Jaques.

Le Canigou.	A	=	1398,0
D = 21445.	R	=	10,0
	H	=	<u>1388,0</u>
La hauteur du Canigou sur la Mer		=	<u>1424,5</u>
Donc la tour de St. Jaques.		=	<u>36,5</u>
Le Puy de Bugarac.	A	=	610,6
D = 23946.	R	=	12,5
	H	=	<u>598,1</u>
St. Jaques au-dessus de la Mer		=	<u>36,5</u>
Bugarac sur la Mer.		=	634,6
Mais dans la 3 ^e . Observation.		=	<u>622,2</u>
Hauteur moyenne de Bugarac.		=	<u><u>628,4</u></u>

V. Observation à Tautavel.

Le Canigou.	A	=	1184,0
D = 20812.	R	=	9,6
	H	=	1174,4
La Canigou au-dessus de la Mer.		=	1424,5
Tautavel au-dessus de la Mer.		=	250,1
Le Mouffet.	A	=	994,0
D = 24600.	R	=	13,2
	H	=	980,8
Le Mouffet au-dessus de la Mer.		=	1226,0
Tautavel.		=	245,2
Hauteur moyenne de Tautavel.		=	247,6.
Qu reciproquement la Hauteur moyenne du Mouffet.		=	1228,0.

VI. Observation à Magrin.

Le Canigou	A	=	1364,0
D = 66700.	R	=	97,2
	H	=	1266,8

Le Canigou au - dessus de la Mer. = 1424,5

Magrin au - dessus de la Mer. = 157,7

Le Puy Laurent.	A	=	20,0
D = 4530.	R	=	0,5
	H	=	19,5

La Hauteur de Magrin. = 157,7

Celle du Puy-Laurent. = 177,2

VII. Observation sur le Puy-Laurent.

Rupeyrroux.	A	=	310,5
D = 43521.	R	=	41,4
	H	=	269,1
La Hauteur du Puy-Laurent.		=	177,2
Celle de Rupeyrroux.		=	446,3

VIII. Observation à Rupeyrroux.

Le Plomb de Cantal.	A	=	585,5
D = 47665.	R	=	49,6
	H	=	535,9
La Hauteur de Rupeyrroux.		=	446,3
Celle du Plomb de Cantal.		=	982,2
Le Puy de Violent.	A	=	452,5
D = 48785.	R	=	52,0
	H	=	400,5
La Hauteur de Rupeyrroux.		=	446,3
Celle du Puy de Violent.		=	846,8

IX. Observation à Rodés.

Rupeyroux.	A	=	89,0
D = 14228.	R	=	4,5
	H	=	84,5
La Hauteur de Rupeyroux.		=	446,3
Celle de Rodés.		=	361,8

X. Observation à Bastide.

Cantal.	A	=	562,0
D = 28954.	R	=	18,4
	H	=	543,6
La Hauteur du Cantal.		=	982,2
Celle de la Bastide.		=	438,6
La Courlande.	A	=	415,0
D = 47580.	R	=	49,4
	H	=	365,6
La Hauteur de la Bastide.		=	435,7
La Courlande.		=	801,3

La Coſte.	A	=	428,0
D = 51637.	R	=	56,3
	H	=	371,7

La Hauteur de la Baſſide. = 435,7

Celle de la Coſte. = 807,4

Le Mont d'or. A = 617,0

D = 48588. R = 51,6

H = 565,4

La Hauteur de la Baſſide. = 435,7

Celle du Mont d'or. = 1001,1

XI. Observation sur le Lage-Chevalier.

Le Mont d'or.	A	=	716,0
D = 49228.	R	=	53,0
	H	=	663,0
La Hauteur du Mont d'or.		=	1001,1
Celle du Lage - Chevalier.		=	338,1
Le Puy de Dome.	A	=	485,0
D = 39556.	R	=	34,2
	H	=	450,8
La Hauteur du Lage - Chevalier.		=	338,1
Celle du Puy de Dome.		=	788,9

Il faut remarquer que dans les trois premières Observations les Lettres A & H signifient les hauteurs absolues des endroits sur la Mer, mais dans toutes les suivantes elles ont la signification, que je leur ai donnée au commencement de ce §.

REMARQUE.

§. 139. La Montagne de St. Barthelemi dont j'ai fait entierement abstraction dans le calcul précédent, a été observée en quatre endroits, au signe Septentrional, à Rupoyroux, à Magrin & sur le Puy-Laurent. Mais il semble qu'il s'y est glissé quelque erreur.

Apparemment n'a-t-on pas mesuré le même sommet de cette Montagne aux deux premiers endroits, & aux deux derniers, parceque ces observations different d'environ 100 toises, & que la montagne est fort grande & a plusieurs sommets, comme il paroît de la figure que Mr. Cassini en donne dans son Livre *P. I. Cb. VII. S. 3.*

Voici le Calcul.

I. Observation au signe Septentrional.

Le St. Barthelemi.	.	=	1184,5
D = 52420.	R	=	60,0
La Hauteur.	H	=	<u>1124,5</u>

II. Observation à Rupeyrour.

Le St. Barthelemi.	A	=	846,8
D = 87740.	R	=	<u>168,4</u>
	H	=	678,4

La Hauteur de Rupeyrour. = 446,3

Celle du St. Barthelemi. = 1124,7

Ainsi la Hauteur moienne trouvée
de ces deux Observations sera. = 1124,6.

III. Observation à Magrin.

Le St. Barthelemi.	A	=	1107,5
D = 46264.	R	=	<u>46,8</u>
	H	=	1060,7

La Hauteur de Magrin. = 157,7

Celle du Barthelemi. = 1218,4

IV. Observation sur le Puy-Laurent.

Barthelemi.	A	=	1098,0
D = 4233.	R	=	42,8
	H	=	1055,2

La Hauteur du Puy-Laurent. = 177,2

Celle du Barthelemi. = 1252,4

Ainsi la Hauteur moyenne de la
Montagne St. Barthelemi tirée
de ces deux Observations sera = 1225,4

III. Observation à Maligny.

St. Barthelemi.	A	=	1098,0
D = 4233.	R	=	42,8
	H	=	1055,2

La Hauteur de Maligny. = 177,2

Celle de Barthelemi. = 1252,4

Voici donc les Hauteurs de toutes ces montagnes dans une table, avec la Hauteur du Baromètre, telle qu'on l'a observée, réduite à la Hauteur moyenne, en supposant celle au niveau de la mer de 28. pouces.

Noms des Montagnes.	Hauteur suivant Mr. Cassin en toises.	Hauteur corrigée en toises.	Hauteur du Baromètre.
Le Canigou.	1441,5	1424,5	20 : 0 $\frac{1}{2}$
Le Moulet.	1253,0	1228,0	20 : 10 $\frac{1}{2}$
La Matelotte.	335,5	335,4	
La Massanne.	408,5	408,3	25 : 4
St. Elme.	101,5	101,5	
Puy de Bugarac.	650,5	628,4	24 : 1 $\frac{1}{2}$
St. Jacques à Perpignan.	41,5	36,5	
Tautavel.	258,0	245,2	
Magrin.	77,0	157,7	
Puy - Laurent.	97,0	177,2	
Rupeyroux.	407,5	446,3	25 : 1 $\frac{1}{2}$
Plomb de Cantal.	993,0	982,2	
Puy de Violent.	860,0	846,8	
Rodes.	318,5	361,8	25 : 8
La Bastide.	431,5	438,6	
La Courlande.	846,0	801,3	23 : 2
La Colte.	859,0	807,4	23 : 2
Le Mont d'or.	1048,0	1001,3	
Le Lage-Chevalier.	332,0	338,3	
Le Puy de Dome.	817,0	789,1	23 : 2 $\frac{1}{2}$
Le St. Barthelemi.	1189,2	1225,4	21 : 0 $\frac{1}{2}$

incertain

incertain

REMARQUE.

§. 140. En comparant ces hauteurs, on voit que plusieurs, comme la Matelotte, la Massanne, St. Eline, Tautavel &c. ne different pas beaucoup, mais que par contre celles de Magrin & du Puy-Laurent sont de 80 toises plus grandes, que ne les donne Mr. Cassini, & que par contre la Courlande, la Coste, le Mont d'or, doivent être diminués de 30 à 40 toises, pour que de la hauteur que Mr. Cassini a trouvée, on en puisse avoir la véritable. Mais il y a un autre point, qui m'a extrêmement surpris, c'est que les hauteurs Barométriques s'accordent parfaitement bien avec les hauteurs des endroits corrigées.

Car en représentant les premières par les abscisses, & appliquant les dernières comme des ordonnées, on déterminera autant de points d'une ligne courbe.

J'ai trouvé qu'en tirant cette Courbe, par ces points déterminés, elle est si régulière, comme si ces points avoient été placés exprès aux endroits, par où la courbe devoit passer, & qu'ils ne s'en écartent que de quelques toises tout au plus. Cet accord inopiné m'a engagé à y appliquer une formule, par laquelle j'ai calculé une table pour les hauteurs des endroits au-dessus de la mer, & celles du Baromètre, qui leur répondent, dans son état moien. Je donnerai une autre fois la formule & la manière, dont je me suis servi pour la trouver, & me contenterai de donner ici la table, & d'en faire voir l'accord avec les expériences rapportées dans le §. précédent. Bien qu'on ait encore des Observations Barométriques faites sur d'autres Montagnes, comme sur le Clairet en Provence, sur Notre-Dame

Table des Hauteurs Barométriques répondantes aux elevations des endroits au-dessus de la Mer.

Hauteur du Baromètre.	Elevation des endroits.	Baromètre.	Elevation des endroits.	Baromètre.	Elevation des endroits.
27 : 11	12,0	24 : 8	529,1	21 : 5	1115,4
-- 10	24,1	-- 7	544,4	-- 4	1132,2
-- 9	36,1	-- 6	558,8	-- 3	1170,1
-- 8	48,6	-- 5	571,4	-- 2	1187,1
-- 7	60,9	-- 4	585,0	-- 1	1204,1
-- 6	73,1	-- 3	602,7	21 : 0	1221,2
-- 5	85,7	-- 2	617,3	20 : 11	1238,4
-- 4	98,2	-- 1	632,1	-- 10	1255,6
-- 3	110,8	24 : 0	647,9	-- 9	1272,9
-- 2	123,3	21 : 11	661,8	-- 8	1290,1
-- 1	136,0	-- 10	676,3	-- 7	1307,7
27 : 0	148,7	-- 9	691,3	-- 6	1325,3
26 : 11	161,4	-- 8	706,8	-- 5	1342,7
-- 10	174,4	-- 7	721,9	-- 4	1360,4
-- 9	187,4	-- 6	737,1	-- 3	1378,1
-- 8	200,4	-- 5	752,1	-- 2	1396,1
-- 7	213,4	-- 4	766,6	-- 1	1413,9
-- 6	226,5	-- 3	781,0	20 : 0	1431,8
-- 5	239,7	-- 2	796,4	19 : 11	1449,3
-- 4	252,9	-- 1	811,9	-- 10	1467,9
-- 3	266,2	24 : 0	829,5	-- 9	1486,1
-- 2	279,6	21 : 11	841,0	-- 8	1504,4
-- 1	289,1	-- 10	860,7	-- 7	1522,8
26 : 0	306,6	-- 9	876,6	-- 6	1541,2
25 : 11	320,1	-- 8	892,2	-- 5	1559,7
-- 10	333,7	-- 7	908,0	-- 4	1578,3
-- 9	347,3	-- 6	924,0	-- 3	1597,0
-- 8	361,1	-- 5	940,0	-- 2	1615,7
-- 7	374,8	-- 4	956,1	-- 1	1634,5
-- 6	388,7	-- 3	972,1	19 : 0	1652,5
-- 5	402,5	-- 2	988,1	18 : 6	1768,9
-- 4	416,5	-- 1	1004,4	18 : 0	1887,4
-- 3	430,1	22 : 0	1020,8	17 : 6	2009,3
-- 2	444,6	21 : 11	1037,1	17 : 0	2134,8
-- 1	458,7	-- 10	1053,5	16 : 6	2264,0
25 : 0	472,6	-- 9	1069,9	16 : 0	2397,3
24 : 11	487,0	-- 8	1086,4	15 : 6	2534,9
-- 10	501,2	-- 7	1103,0	15 : 0	2677,0
-- 9	515,5	21 : 6	1119,7	14 : 6	2824,0
				14 : 0	2976,0

VOICI

Voici maintenant comme le calcul s'accorde avec les observations.

Noms des endroits.	Hauteur moyenne du baromètre.	Hauteur calculée en toises.	Hauteur mesurée en toises.	Différence.
Rodes.	25 : 8 ⁷	361,1	361,8	— 0,7
Massanne.	25 : 4	416,5	408,3	+ 8,2
Rupeyroux.	25 : 11 ¹	451,5	446,3	+ 5,2
Bugarac.	24 : 1 ⁵	624,7	628,4	— 3,7
Puy de Dôme.	23 : 2 ²	790,7	789,1	+ 1,6
La Coste.	23 : 2	798,4	807,4	— 9,0
La Courlande.	23 : 2	798,4	801,3	— 2,9
St. Barthelemi.	21 : 0 ²	1212,6	1225,4	— 12,8
Mouffet.	20 : 10 ²	1244,8	1228,0	+ 16,8
Le Canigou.	20 : 0 ¹	1422,9	1424,5	— 1,6

De-là on voit que la différence est toujours au-dessous d'une ligne. Mais il faut encore remarquer, que les Hauteurs barométriques pour les deux-montagnes le Mouffet & le St. Barthelemi, qui diffèrent le plus, sont incertaines, en ce que j'é n'ai pu trouver quelle étoit la Hauteur du baromètre à la surface de la mer ou à Paris, du tems que ces observations étoient faites.

On trouva la Hauteur du Baromètre sur le Pic de Teneriffe de 125 lignes plus bas, qu'au bord de la mer. Ainsi la Hauteur moyenne étant de 17⁷, j'ai trouvé la Hauteur du Pic de 1939,2 toises, & je ne doute pas qu'elle ne diffère gueres de la véritable. Car bien que le P. Feuillée la mesura & la trouva de 13158 pieds ou 2193 toises, il paroît cependant, que non seulement il n'a pas eu égard à la réfraction, mais il y a apparence qu'il s'est servi de deux stations, ce qui doubleroit l'erreur, qui

H 2. nait

naît de la refraction. Mr. Bouguer donne la Hauteur du Pic de 12318, ou de 12258 pieds. Je ne fais pas de quelle manière ces deux hauteurs ont été trouvées; mais il est vraisemblable, que la mesure en ait été faite aux deux extrémités d'un triangle, qui devoit déterminer la distance de la montagne & dont les côtés étoient inégalement éloignés. La mesure, qui résulte du plus petit côté étant de 12258 pieds, ou de 2043 toises, ne diffère de notre calcul que de 54 toises, effet qui peut très bien provenir de la refraction, parcequ'il n'exige qu'une distance d'environ 50000 toises; & il la faudra tout au moins aussi grande, pour qu'on puisse voir le sommet de la montagne.

F I N.

Fautes à corriger.

<i>Page.</i>	<i>Ligne.</i>	<i>Au lieu de . .</i>	<i>Lisez</i>
41.	9.	TC . . .	tC
43.	21.	DT . . .	DM
51.	4.	(c. tang. 80).	c(tang. 80)
60. 18.		$\frac{DG - \sqrt{DG^2 - 2x.DC^2}}{DG}$	$\frac{DG - \sqrt{DG^2 - 2x.DC^2}}{DC}$
68.	6.	AS . . .	AD
71.	18.	$\frac{ACB}{FGA}$	$\frac{ACB}{FGA}$
93.	7.	BAC . .	BAE
94.	5.	TCf . .	TfC



796



Fig. I.



Fig. IV.



Fig. VIII.

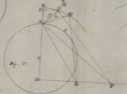


Fig. V.



Fig. II.



Fig. III.



Fig. VI.

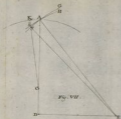


Fig. VIII

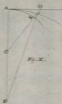


Fig. IX



Fig. X



Fig. XI